



のこりはいくつ？

● 10からひくひきざん


14

日にち：          月          日

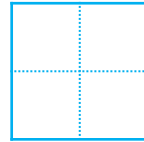
名まえ \_\_\_\_\_

・ ひきざんをしましょう。

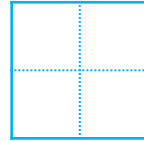
①  $8 - 1 =$



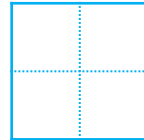
②  $5 - 4 =$




③  $7 - 6 =$



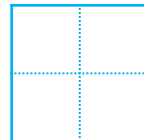
④  $10 - 8 =$



⑤  $9 - 2 =$



⑥  $10 - 5 =$





のこりはいくつ？

● 10からひくひきざん

14

日にち：            月            日

名まえ \_\_\_\_\_

・ ひきざんをしましょう。

①  $8 - 1 =$

②  $5 - 4 =$

③  $7 - 6 =$

④  $10 - 8 =$

⑤  $9 - 2 =$

⑥  $10 - 5 =$