



10より
おおきいかず 10
● 10といくつかをたしたしき

14

日にち： 月 日

名まえ _____

1 たしざんをしましょう。

① $10 + 3 = \square$

④ $10 + 7 = \square$

② $10 + 8 = \square$

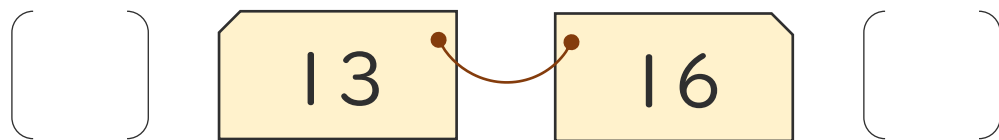
⑤ $10 + 5 = \square$

③ $10 + 2 = \square$

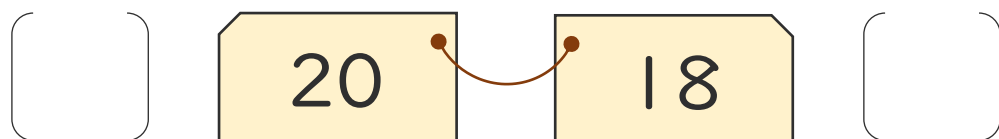
⑥ $10 + 10 = \square$

2 おおきいほうに○をつけましょう。

①



②





10より
おおきいかず 10
● 10といくつかをたしたしき

14

日にち： 月 日

名まえ _____

1 たしざんをしましょう。

① $10 + 3 = 13$

④ $10 + 7 = 17$

② $10 + 8 = 18$

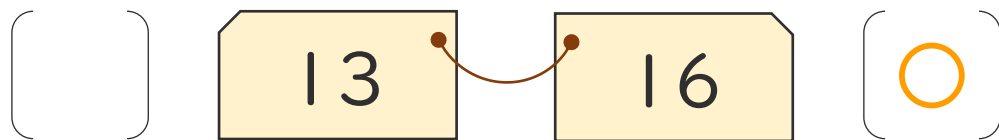
⑤ $10 + 5 = 15$

③ $10 + 2 = 12$

⑥ $10 + 10 = 20$

2 おおきいほうに○をつけましょう。

①



②

