



おおきいかず 7

3つおおきいかずを、
かずのせんでしらべよう

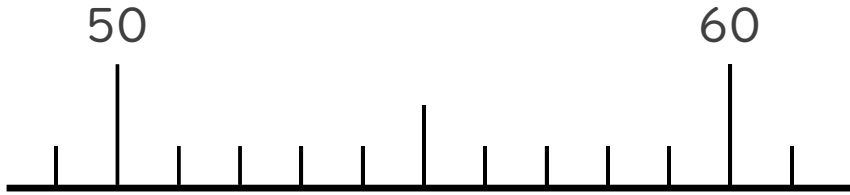


日にち： 月 日

名まえ _____

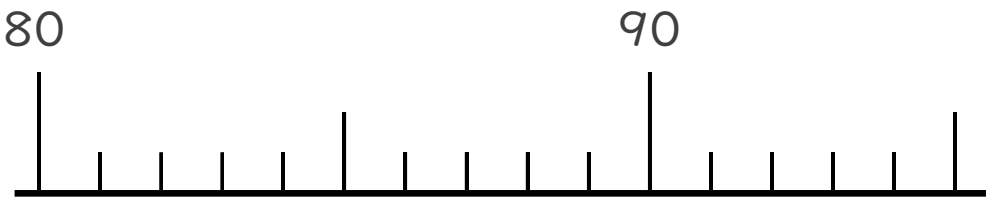
1 かずのせんをつかってしらべましょう。

① 55より 3おおきいかず



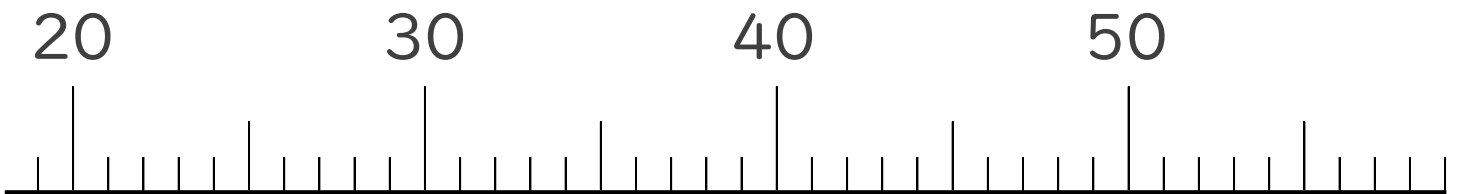
()

② 92より 6ちいさいかず



()

2 かずのせんをみて、㊦、㊧のめもりがあらわすかずを
いみましょう。



↑
㊦

()

↑
㊧

()





おおきいかず 7

3つおおきいかずを、
かずのせんでしらべよう

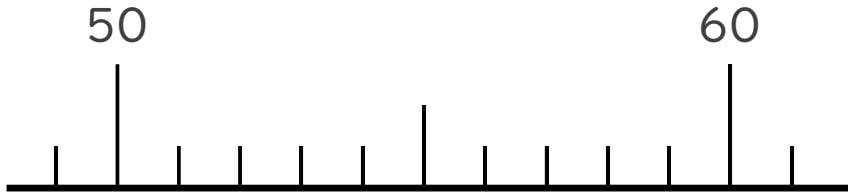


日にち： 月 日

名まえ _____

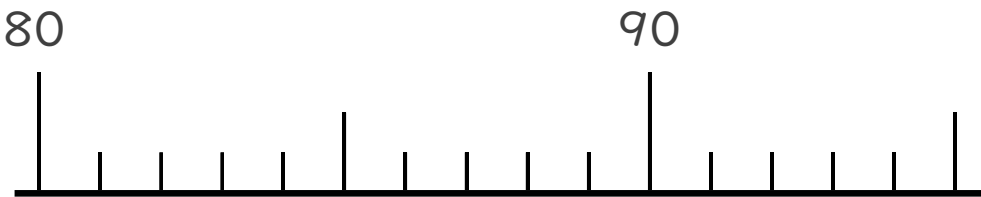
1 かずのせんをつかってしらべましょう。

① 55より 3おおきいかず



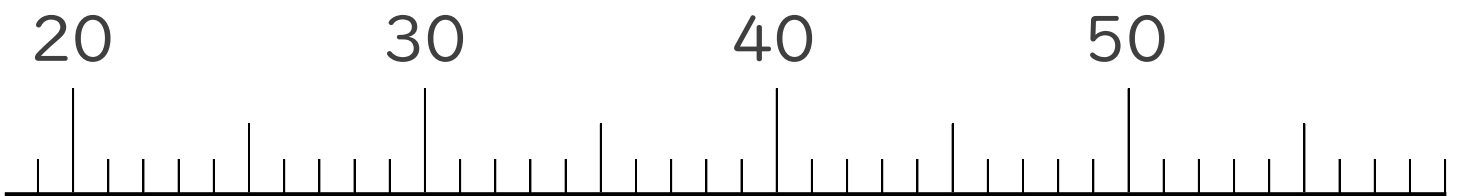
(58)

② 92より 6ちいさいかず



(86)

2 かずのせんをみて、㊦、㊧のめもりがあらわすかずを
いみましょう。



㊦

(34)

㊧

(47)

