

たしざんと
ひきざん 2

● うしろはなんにん?
(ならびじゆん・きゆうほ)

15

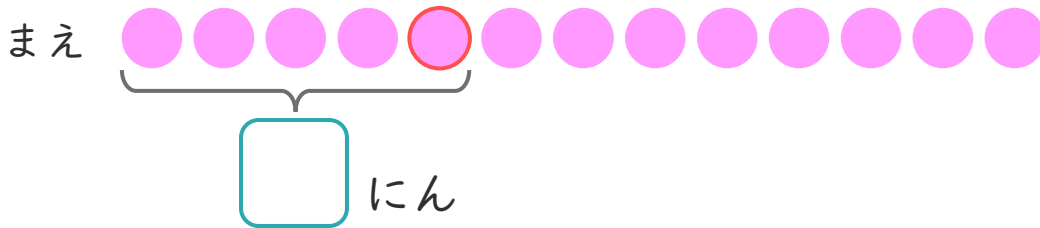
めざせ80点!



名まえ _____

1 おかしゃさんに 13にん ならんでいます。
はなさんは まえから 5ばんめに います。

① に あう かず を かき まし ょう。(20点)



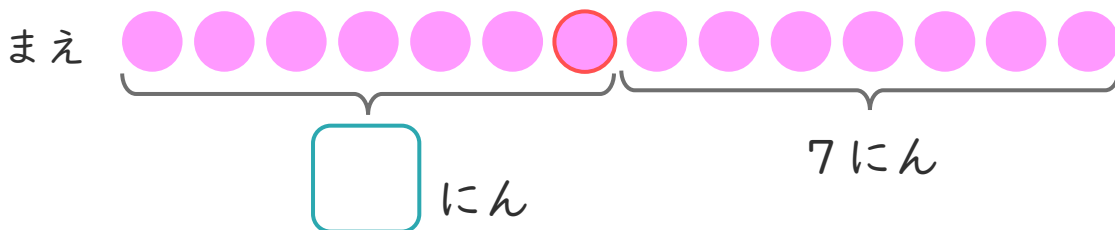
② はなさんの うしろには なんにん いますか。(30点)

しき:

こたえ {

2 ゆうきさんは、まえから 7ばんめに います。
ゆうきさんの うしろに 7にん います。

① に あう かず を かき まし ょう。(20点)



② みんなで なんにん いますか。(30点)

しき:

こたえ {





たしざんと
ひきざん 2

● うしろはなんにん?
(ならびじゆん・きゆうほ)

15

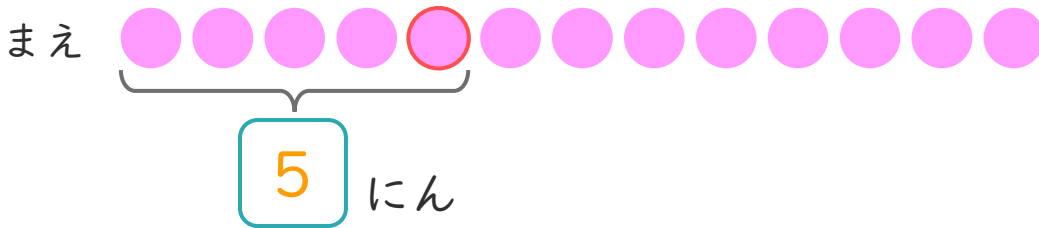
めざせ80点!



名まえ _____

1 おかしゃさんに 13にん ならんでいます。
はなさんは まえから 5ばんめに います。

① に あう かず を かき まし ょう。(20点)



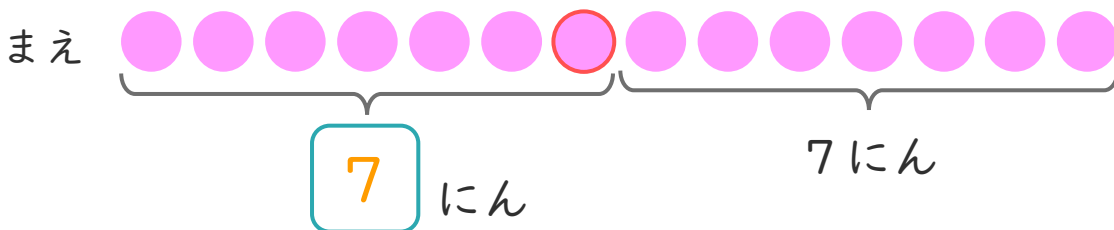
② はなさんの うしろには なんにん いますか。(30点)

しき： $13 - 5 = 8$

こたえ $\left(\begin{array}{c} 8 \\ \text{にん} \end{array} \right)$

2 ゆうきさんは、まえから 7ばんめに います。
ゆうきさんの うしろに 7にん います。

① に あう かず を かき まし ょう。(20点)



② みんなで なんにん いますか。(30点)

しき： $7 + 7 = 14$

こたえ $\left(\begin{array}{c} 14 \\ \text{にん} \end{array} \right)$

