




おおきいかず 5

◎ おおきいかずは、
どちらでしょう

15


めざせ100点!




名まえ _____

1 おおきいほうに○をつけましょう。(各25点)

①

() 7 4  6 7 ()

②

() 7 8  8 2 ()

2 いちばん おおきい かずに ○ を つけましょう。(各25点)

①

6 0 6 1 6 2
() () ()

②

8 8 8 4 8 9 8 0
() () () ()






おおきいかず 5

◎ おおきいかずは、
どちらでしょう

15

めざせ100点!



名まえ _____

1 おおきいほうに○をつけましょう。(各25点)

①

(○) 7 4 6 7 ()

②

() 7 8 8 2 (○)

2 いちばん おおきい かずに ○ を つけましょう。(各25点)

①

6 0 6 1 6 2

() (○) ()

②

8 8 8 4 8 9 8 0

() () (○) ()