




くりあがりのある
たしざん 9

● ぶんしょう もんだい

15

めざせ100点!



名まえ _____

1 かだんに しろい はなが 9ほん あります。あかい はなが 6ほん あります。はなは、ぜんぶで なんほん ありますか。
(35点)

しき :


こたえ

2 おやの いんこが 4わ、こどもの いんこが 8わ います。いんこは、ぜんぶで なんわ いますか。
(35点)


しき :

こたえ

3 さかなは あわせて なんびき ですか。しきをかきましょう。
(30点)



7 ひき



5 ひき

しき :

 + =





くりあがりのある
たしざん 9

● ぶんしょう もんだい

15

めざせ100点!



名まえ _____

- 1 かだんにしろいはなが9ほんあります。あかいはなが6ほんあります。はなは、ぜんぶでなんぼんありますか。(35点)

しき： $9 + 6 = 15$


こたえ (15ほん)

- 2 おやのいんこが4わ、こどものいんこが8わいます。いんこは、ぜんぶでなんわいますか。(35点)


しき： $4 + 8 = 12$

こたえ (12わ)

- 3 さかなはあわせてなんびきですか。しきをかきましょう。(30点)



7 ひき



5 ひき

しき： $7 + 5 = 12$

