




くりさがりのある
ひきざん 2

● くりさがりの けいさん
(9 をひく)

15

めざせ80点!



名まえ _____

・ けいさんをしましょう。(各20点)

① $15 - 9 = \square$

② $12 - 9 = \square$

③ $18 - 9 = \square$

④ $11 - 9 = \square$

⑤ $14 - 9 = \square$




くりさがりのある
ひきざん 2

● くりさがりのけいさん
(9をひく)

15

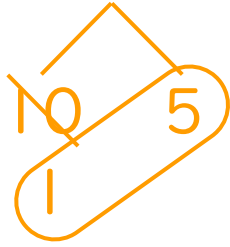
めざせ80点!



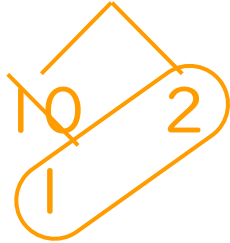
名まえ _____

・ けいさんをしましょう。(各20点)

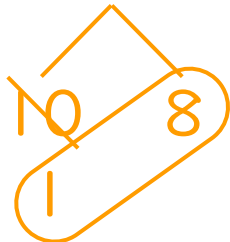
① $15 - 9 = 6$



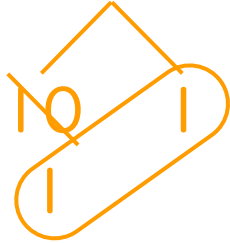
② $12 - 9 = 3$



③ $18 - 9 = 9$



④ $11 - 9 = 2$



⑤ $14 - 9 = 5$

