




たしざんと  
ひきざん 6

くりはなんこ?  
(きゅうしょう)

15

めざせ80点!



てん

名まえ

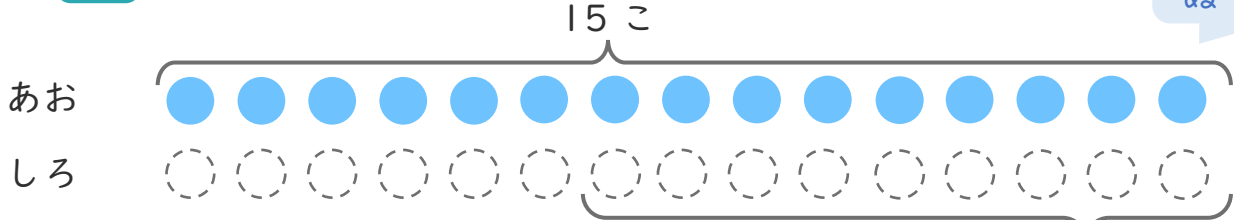
1

あおいたまが 15こ あります。

しろいたまは、あかいたまより 9こ すくないそうです。

①  にあうかずをかきましょう。(20点)

にいろをぬりましょう。



こすくない

② しろいたまはなんこありますか。(30点)

しき:

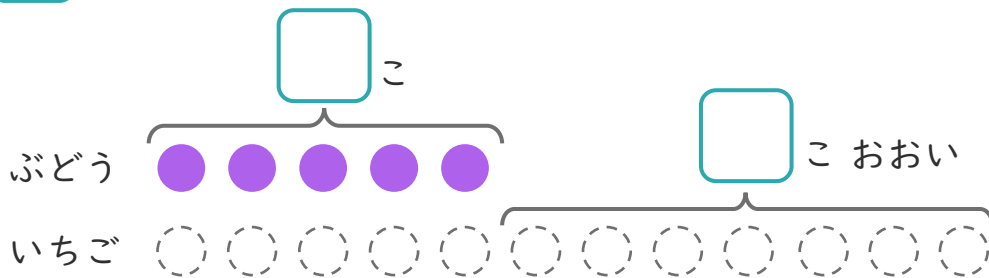
こたえ

2 ぶどうのあめが 5こ あります。

いちごのあめはぶどうのあめより 7こ おおいそうです。

①  にあうかずをかきましょう。(20点)

にいろをぬりましょう。



② いちごのあめは、なんこありますか。(30点)

しき:

こたえ





たしざんと  
ひきざん 6

くりはなんこ?  
(きゅうしょう)

15

めざせ80点!



てん

名まえ

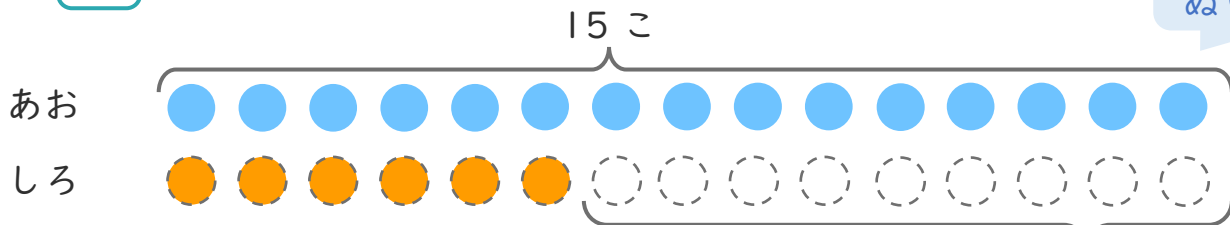
1

あおいたまが15こあります。

しろいたまは、あかいたまより9こすくないそうです。

①  にあうかずをかきましょう。(20点)

○にいろをぬりましょう。



9こすくない

② しろいたまはなんこありますか。(30点)

しき： $15 - 9 = 6$

こたえ

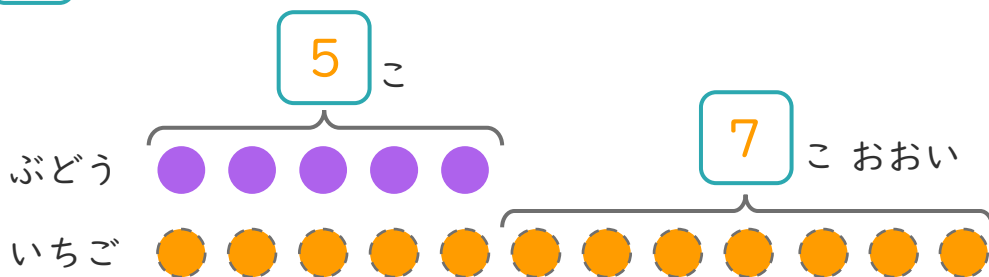
6こ

2 ぶどうのあめが5こあります。

いちごのあめはぶどうのあめより7こおおいそうです。

①  にあうかずをかきましょう。(20点)

○にいろをぬりましょう。



② いちごのあめは、なんこありますか。(30点)

しき： $5 + 7 = 12$

こたえ

12こ

