



たしざんと
ひきざん 4

● すわれないひとはなんにん?
(こすうとにんずう)

15

めざせ80点!



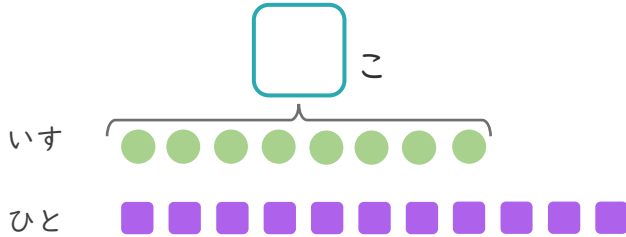
名まえ _____

1

いすが 8 こ あります。

11 にんで いすと どりゲームを しました。

① に あう かずを かき まし しょう。(20点)



● と ■ を せんで
お す び ま し ょう。

② いすに すわれない ひとは なんにん ですか。(30点)

しき :

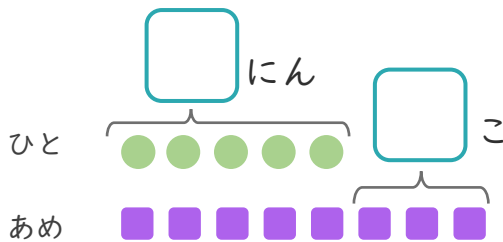
こたえ {

2

5 にんに あめを 1 こ ずつ わけ ました。

あめは あと 3 こ あります。

① に あう かずを かき まし しょう。(20点)



● と ■ を せんで
お す び ま し ょう。

② あめは、ぜんぶで なんこ ありますか。(30点)

しき :

こたえ {





たしざんと
ひきざん 4

● すわれないひとはなんにん?
(こすうとにんずう)

15

めざせ80点!



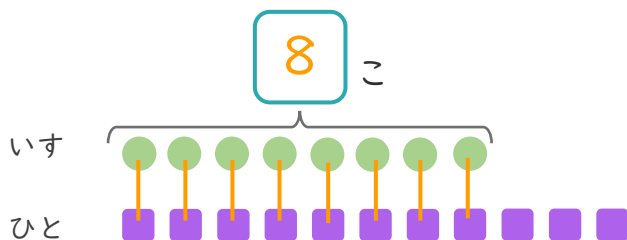
名まえ _____

1

いすが 8 こ あります。

11 にんでいすととりゲームをしました。

① □ にあうかずをかきましょう。(20点)



● と ■ を せんで
むすびましょう。

② いすにすわれないひとはなんにんですか。(30点)

しき： $11 - 8 = 3$

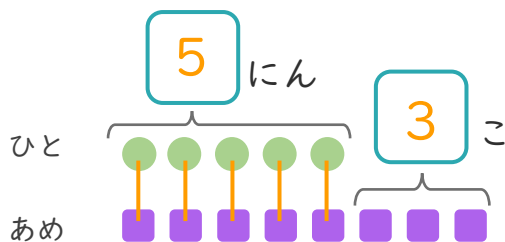
こたえ { 3 にん }

2

5 にんにあめを1こずつわけました。

あめはあと3こあります。

① □ にあうかずをかきましょう。(20点)



● と ■ を せんで
むすびましょう。

② あめは、ぜんぶでなんこありますか。(30点)

しき： $5 + 3 = 8$

こたえ { 8 こ }

