



たしざんと  
ひきざん 6

● どんぐりはなんこ?  
(きゅうしょう)

15

めざせ80点!



てん

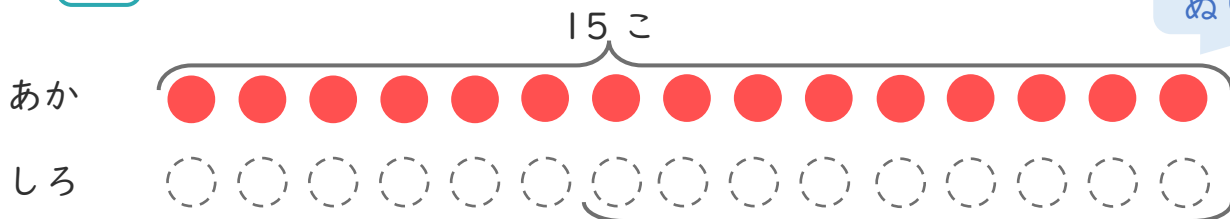
名まえ \_\_\_\_\_

1

あかいたまが15こあります。  
しろいたまは、あかいたまより9こすくないそうです。

①  にあうかずをかきましょう。(20点)

○にいろをぬりましょう。



こすくない

② しろいたまはなんこありますか。(30点)

しき:

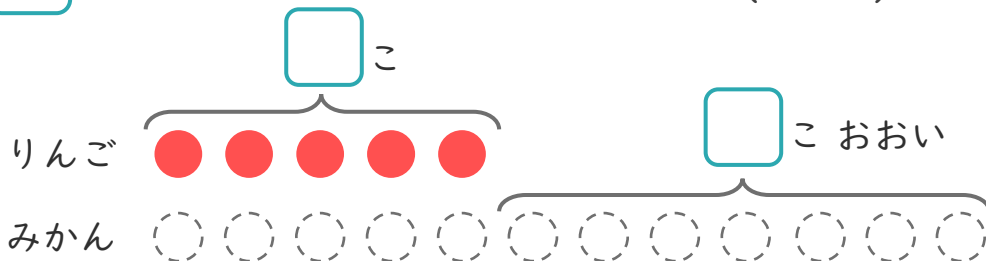
こたえ {

2 りんごのあめが5こあります。

みかんのあめはりんごのあめより7こおいそうです。

①  にあうかずをかきましょう。(20点)

○にいろをぬりましょう。



② みかんのあめは、なんこありますか。(30点)

しき:

こたえ {





たしざんと  
ひきざん 6

● どんぐりはなんこ?  
(きゅうしょう)

15

めざせ80点!



てん

名まえ

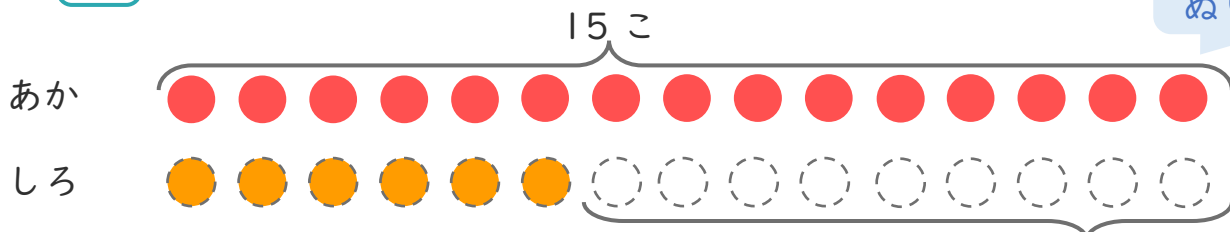
1

あかいたまが15こあります。

しろいたまは、あかいたまより9こすくないそうです。

①  にあうかずをかきましょう。(20点)

○にいろをぬりましょう。



9こすくない

② しろいたまはなんこありますか。(30点)

しき： $15 - 9 = 6$

こたえ

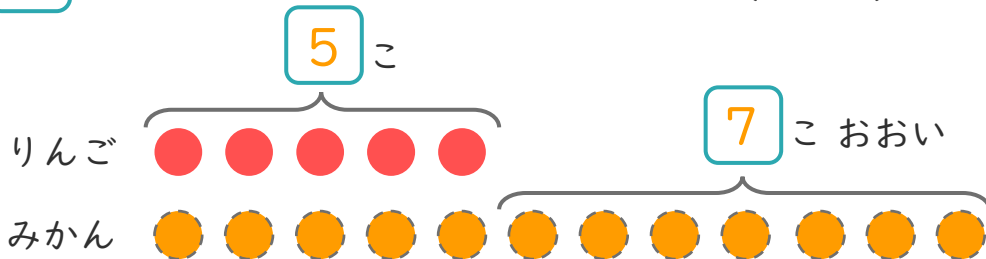
6こ

2 りんごのあめが5こあります。

みかんのあめはりんごのあめより7こおいそうです。

①  にあうかずをかきましょう。(20点)

○にいろをぬりましょう。



② みかんのあめは、なんこありますか。(30点)

しき： $5 + 7 = 12$

こたえ

12こ

