




たしざんと  
ひきざん 5

● みかんのあめはなんこ?  
(きゅうだい)

15

めざせ80点!



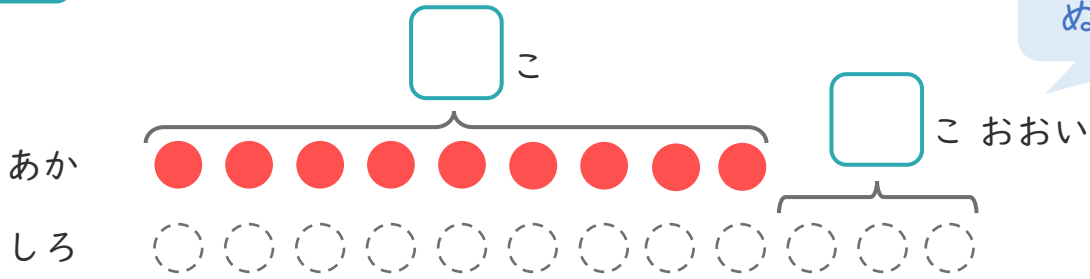
名まえ \_\_\_\_\_

1

たまいれをしました。あかぐみは、9こはいりました。  
しろぐみは、あかぐみより3こおいそです。

①  にあうかずをかきましょう。(20点)

○にいろをぬりましょう。



② しろぐみは、なんこはいりましたか。(30点)

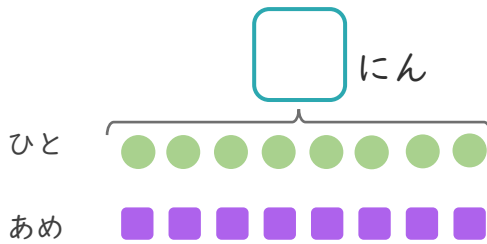
しき:

こたえ {

2

あめが10こあります。  
8にんに1こずつわけました。

①  にあうかずをかきましょう。(20点)



●と■をせんで  
むすびましょう。

② あめは、なんこのこりますか。(30点)

しき:

こたえ {






たしざんと  
ひきざん 5

● みかんのあめはなんこ?  
(きゅうだい)

15

めざせ80点!



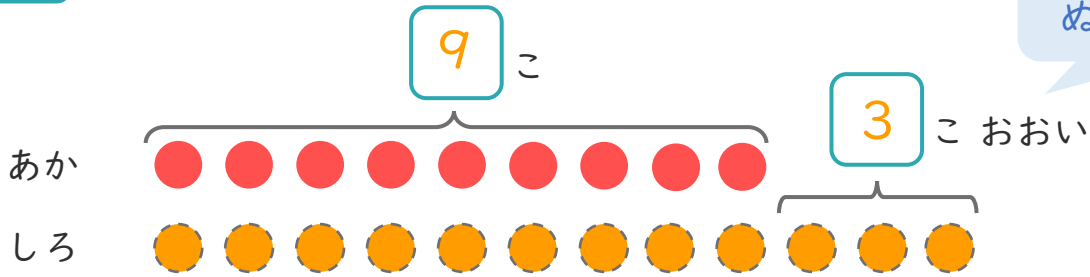
名まえ \_\_\_\_\_

1

たまいれをしました。あかぐみは、9こはいりました。  
しろぐみは、あかぐみより3こおいそうです。

①  にあうかずをかきましょう。(20点)

○にいろをぬりましょう。



② しろぐみは、なんこはいりましたか。(30点)

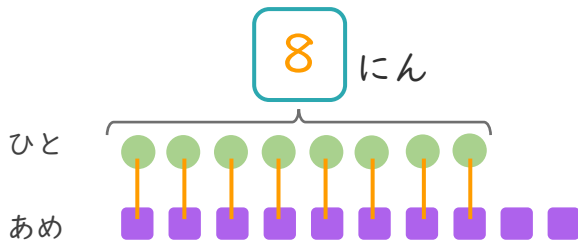
しき： $9 + 3 = 12$

こたえ  $\left( \begin{array}{cc} 12 & こ \end{array} \right)$

2

あめが10こあります。  
8にんに1こずつわけました。

①  にあうかずをかきましょう。(20点)



●と■をせんで  
むすびましょう。

② あめは、なんこのこりますか。(30点)

しき： $10 - 8 = 2$

こたえ  $\left( \begin{array}{cc} 2 & こ \end{array} \right)$

