



たしざんと
ひきざん 5

● みかんのあめはなんこ?
(きゅうだい)

15

めざせ80点!



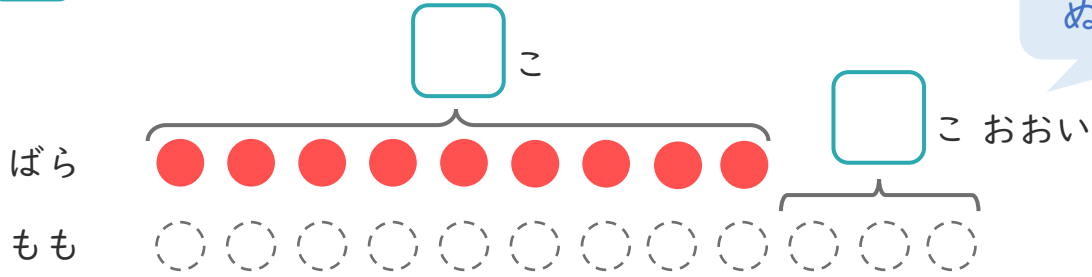
名まえ _____

1

たまいれをしました。ばらぐみは、9こはいりました。
ももぐみは、ばらぐみより3こおいそうです。

① にあうかずをかきましょう。(20点)

○にいろをぬりましょう。



② ももぐみは、なんこはいりましたか。(30点)

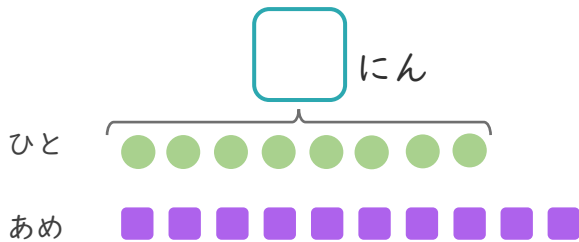
しき:

こたえ {

2

あめが10こあります。
8にんに1こずつわけました。

① にあうかずをかきましょう。(20点)



●と■をせんで
むすびましょう。

② あめは、なんこのこりますか。(30点)

しき:

こたえ {






たしざんと
ひきざん 5

● みかんのあめはなんこ?
(きゅうだい)

15

めざせ80点!



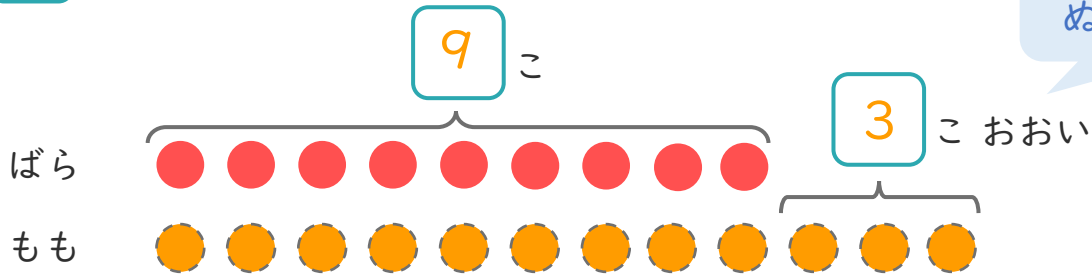
名まえ _____

1

たまいれをしました。ばらぐみは、9こはいりました。
ももぐみは、ばらぐみより3こおいそうです。

① にあうかずをかきましょう。(20点)

○にいろをぬりましょう。



② ももぐみは、なんこはいりましたか。(30点)

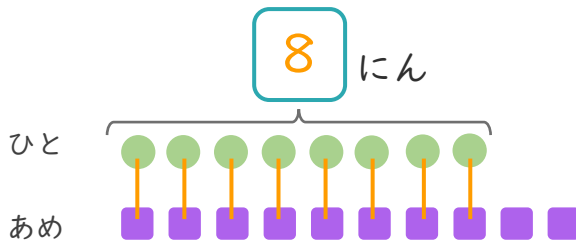
しき： $9 + 3 = 12$

こたえ $\left(\begin{array}{l} 12 \\ \text{こ} \end{array} \right)$

2

あめが10こあります。
8にんに1こずつわけました。

① にあうかずをかきましょう。(20点)



●と■をせんで
むすびましょう。

② あめは、なんこのこりますか。(30点)

しき： $10 - 8 = 2$

こたえ $\left(\begin{array}{l} 2 \\ \text{こ} \end{array} \right)$

