




10より
おおきいかず 10
● 10といくつかをたしたしき

15

めざせ90点!



名まえ _____

1 たしざんをしましょう。(各16点)

① $10 + 6 = \square$

④ $10 + 2 = \square$

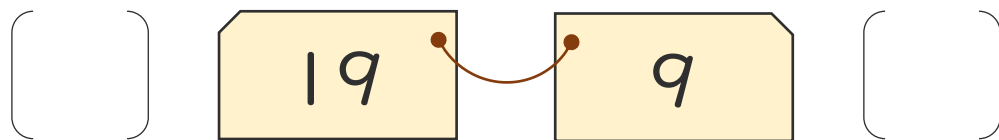
② $10 + 4 = \square$

⑤ $10 + 5 = \square$

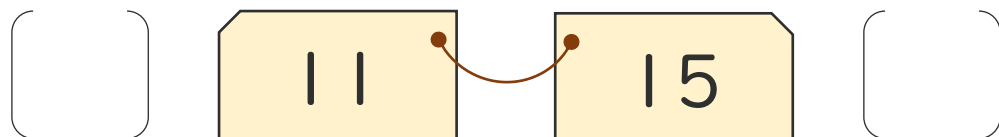
③ $10 + 9 = \square$

2 おおきいほうに○をつけましょう。(各10点)

①



②






10より
おおきいかず 10
● 10といくつかをたしたしき

15

めざせ90点!



名まえ _____

1 たしざんをしましょう。(各16点)

① $10 + 6 = 16$

④ $10 + 2 = 12$

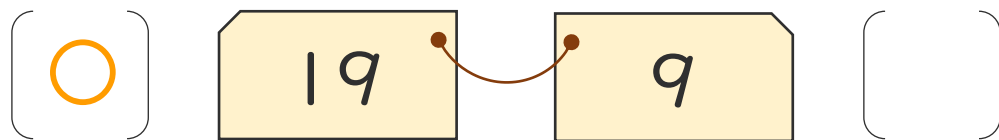
② $10 + 4 = 14$

⑤ $10 + 5 = 15$

③ $10 + 9 = 19$

2 おおきいほうに○をつけましょう。(各10点)

①



②

