




おおきいかず 7

3つおおきいかずを、
かずのせんでしらべよう



めざせ100点!

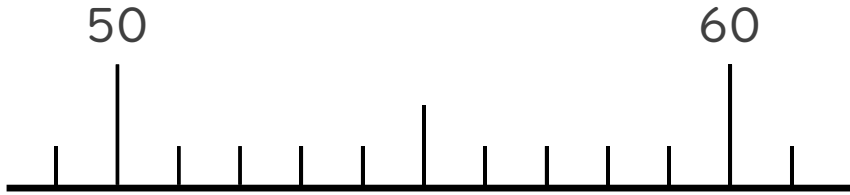


名まえ _____

1 かずのせんをつかってしらべましょう。

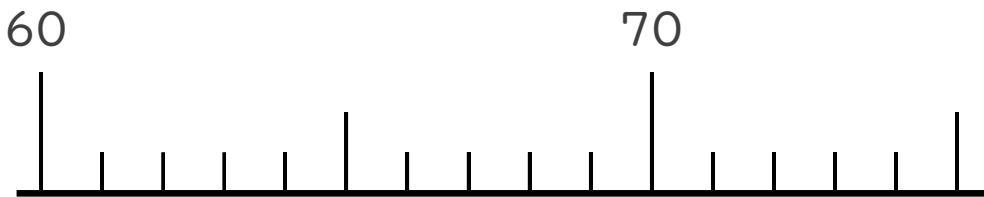
(各25点)

① 59より 4ちいさいかず



()

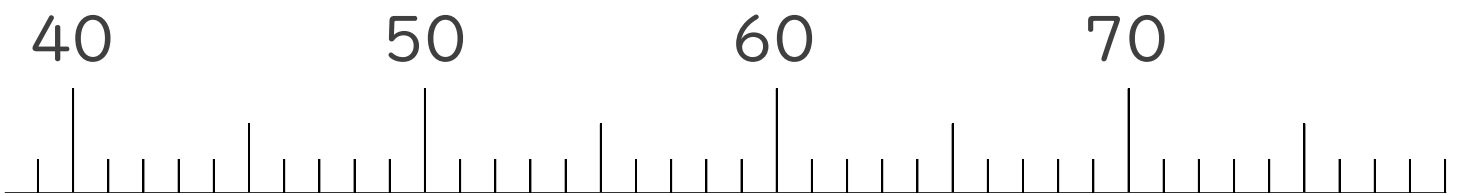
② 67より 5おおきいかず



()

2 かずのせんをみて、㊦、㊧のめもりがあらわすかずを
いしましょう。

(各25点)



↑
㊦

()

↑
㊧

()






おおきいかず 7

3つおおきいかずを、
かずのせんでしらべよう

15

めざせ100点!



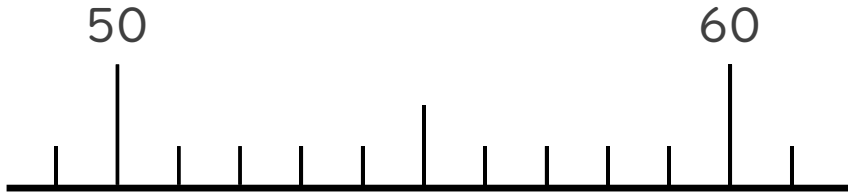
てん

名まえ _____

1 かずのせんをつかってしらべましょう。

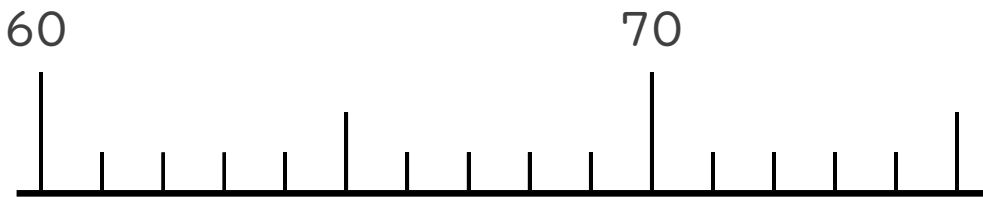
(各25点)

① 59より 4ちいさいかず



(55)

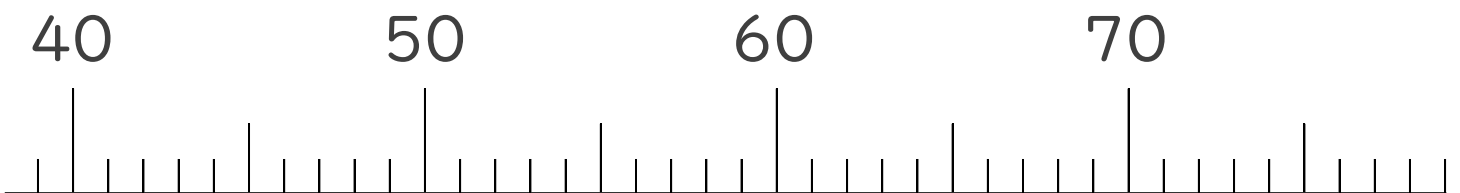
② 67より 5おおきいかず



(72)

2 かずのせんをみて、㊦、㊧のめもりがあらわすかずを
いしましょう。

(各25点)



㊦

(54)

㊧

(73)

