




なかまづくりとかず 4

◎ あわせて5こになる
おはじきのかず

16


めざせ100てん!



名まえ _____

1 おはじきを 5 ことります。 はなんこですか。
また、 はなんこですか。(各25点)

①




が

 こ, が

 こ

②



が

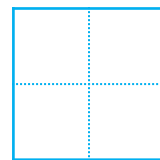

 こ, が

 こ

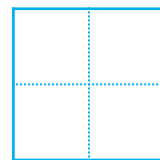
2 いくつでしょう。

 にすうじをかきましょう。(各25点)

①



②






なかまづくりとかず 4

◎ あわせて5こになる
おはじきのかず

16


めざせ100てん!



名まえ _____


1 おはじきを 5 ことります。 はなんこですか。
また、 はなんこですか。 (各25点)

①



が こ, が こ


②



が こ, が こ

2 いくつでしょう。 にすうじをかきましょう。(各25点)

①



②

