




なかまづくりとかず 7

● いくつでしょう？
(10までのかず)


16

めざせ100てん!

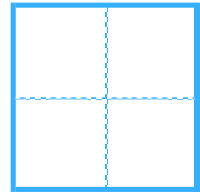



てん

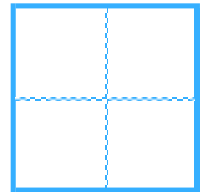
名まえ _____

・ いくつでしょう。  にすうじをかきましょう。
(各25点)

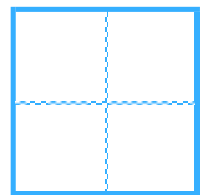

①



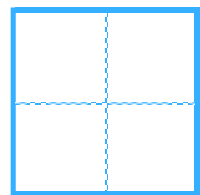
②



③



④






なかまづくりとかず 7

● いくつでしょう?
(10までのかず)


16

めざせ100てん!

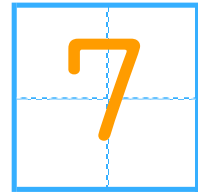



てん

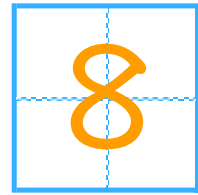
名まえ _____

・ いくつでしょう。  にすうじをかきましょう。
(各25点)

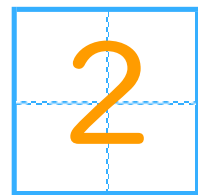
①



②



③



④

