




くりさがりのある
ひきざん 8

● えとぶんしょうから
しきをつくろう


16

めざせ100点!



名まえ _____

1 のこりは なんこですか。しきをかきましょう。(50点)

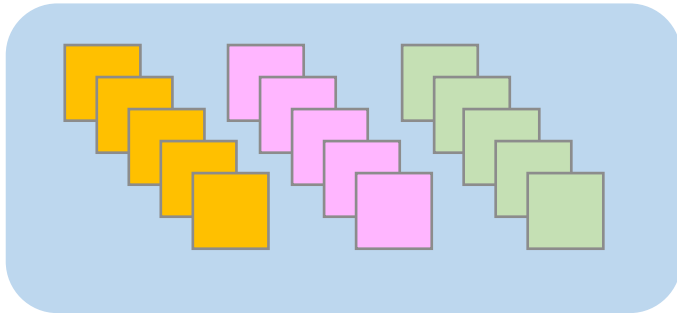


12こ

4こたべると

しき： - =

2 のこりは なんまいですか。しきをかきましょう。(50点)



15まい

6まいつかうと

しき： - =




くりさがりのある
ひきざん 8

● えとぶんしょうから
しきをつくろう

16


めざせ100点!



てん

名まえ

1 のこりは なんこですか。しきをかきましょう。(50点)

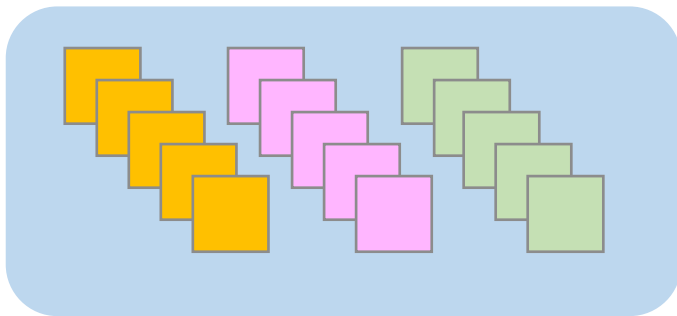


12こ

4こたべると

$$\text{しき: } \boxed{12} - \boxed{4} = \boxed{8}$$

2 のこりは なんまいですか。しきをかきましょう。(50点)



15まい

6まいつかうと

$$\text{しき: } \boxed{15} - \boxed{6} = \boxed{9}$$

