




おおきいかず 6

● かずのせんを、
よみとろう

16

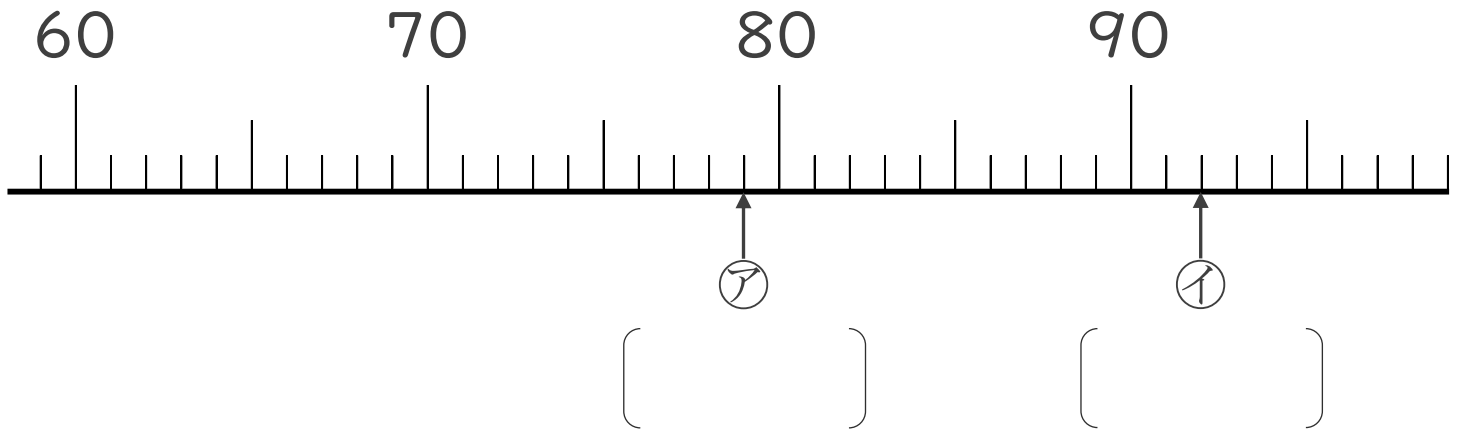
めざせ80点!



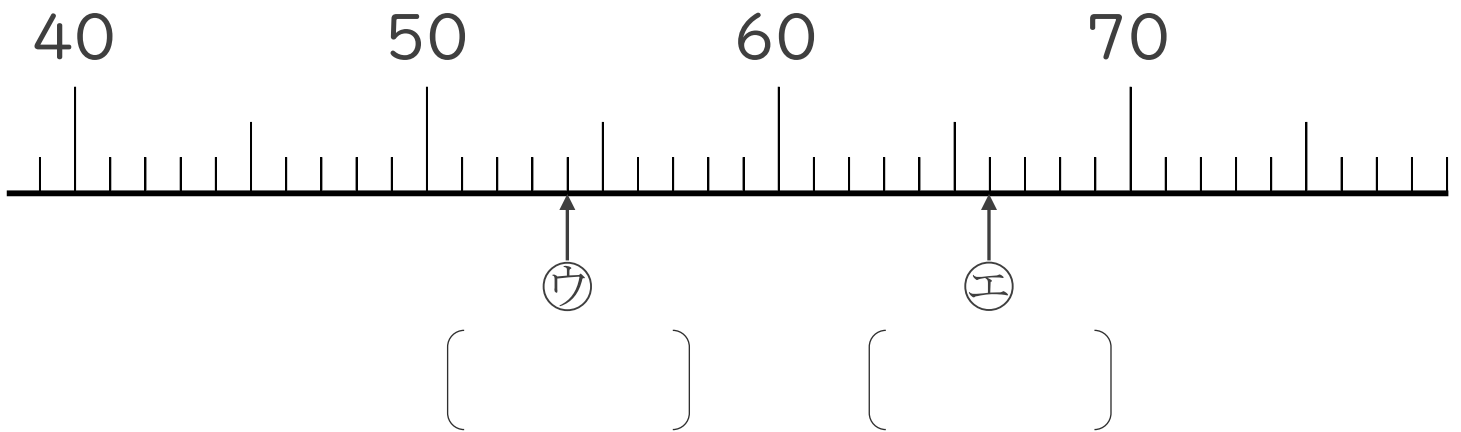
名まえ _____

1 かずのせんをみて、㊦、㊧、㊨、㊩のめもりがあらかずをかずにいましょう。(各20点)

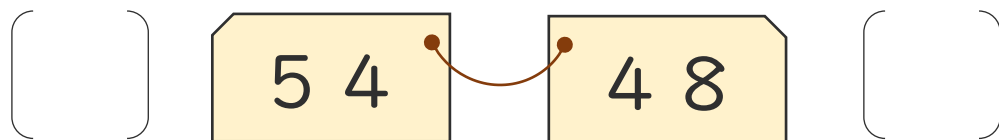
①



②



2 いちばんおおきいかずに○をつけましょう。(20点)






おおきいかず 6

● かずのせんを、
よみとろう

16

めざせ80点!



てん

名まえ _____

1 かずのせんをみて、㉠、㉡、㉢、㉣のめもりがあらわす

かずをいみましょう。

(各20点)

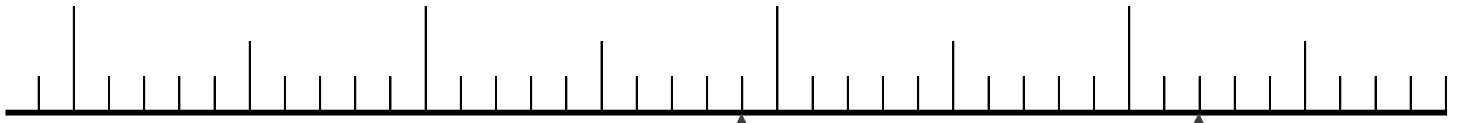
①

60

70

80

90



㉠

(79)

㉡

(92)

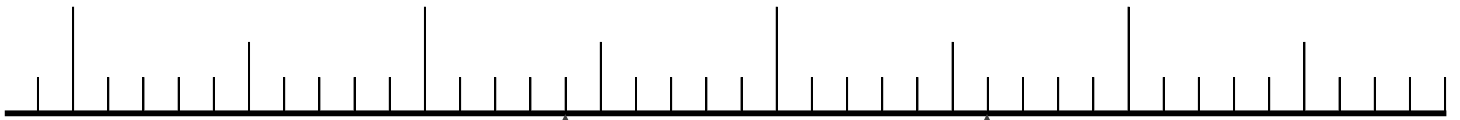
②

40

50

60

70



㉢

(54)

㉣

(66)

2 いちばん おおきい かずに ○ を つけましょ。 (20点)

(○)

54

48

()

