



おおきいかず 8

● かずのならびかた (2けた)

16

めざせ90点!



名まえ _____

1 □ にかずをかきましょう。(各15点)

①



②

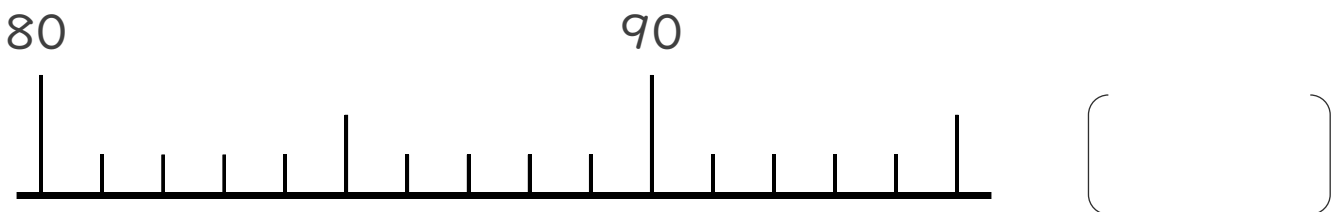


③



2 かずのせんをつかってしらべましょう。(10点)

86より 4おおきいかず






おおいいかず 8

● かずの並びかた (2けた)

16

めざせ90点!



名まえ _____

1 □ にかずをかきましょう。(各15点)

①



②

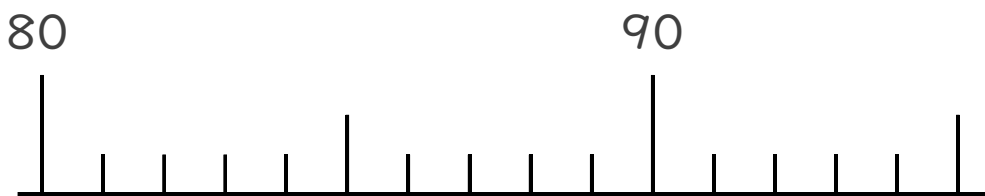


③



2 かずのせんをつかってしらべましょう。(10点)

86より 4 おおきいかず



{ 90 }

