




くりあがりのある  
たしざん 9

● ぶんしょう もんだい

16

めざせ100点!



名まえ \_\_\_\_\_

1 すいそうに きんぎょが 9ひき います。7ひき もらいました。  
きんぎょは、ぜんぶで なんびき になりましたか。

(35点)

しき：

こたえ

2 おとなが 6にん、こどもが 8にん います。  
みんなで なんにん いますか。


(35点)

しき：


こたえ

3 えんぴつは あわせて なんほん ですか。しきをかきましょう。

(30点)



4ほん



9ほん

しき：

 +  =




くりあがりのある  
たしざん 9

● ぶんしょう もんだい

16

めざせ100点!



名まえ \_\_\_\_\_

1 すいそうに きんぎょが 9ひき います。7ひき もらいました。  
きんぎょは、ぜんぶで なんびき になりましたか。

(35点)

しき： $9 + 7 = 16$

こたえ  $\left( 16 \text{ ひき} \right)$

2 おとなが 6にん、こどもが 8にん います。  
みんなで なんにん いますか。


(35点)

しき： $6 + 8 = 14$


こたえ  $\left( 14 \text{ にん} \right)$

3 えんぴつは あわせて なんぼん ですか。しきをかきましょう。

(30点)



4ほん



9ほん

しき： $4 + 9 = 13$

