



くりさがりのある
ひきざん 6

● くりさがりのけいさん
(4や3をひく)

16

めざせ80点!



名まえ _____

・ けいさんをしましょう。(各20点)

① $13 - 5 =$

② $11 - 4 =$

③ $15 - 6 =$

④ $11 - 3 =$

⑤ $12 - 4 =$




くりさがりのある
ひきざん 6

● くりさがりのけいさん
(4や3をひく)

16

めざせ80点!

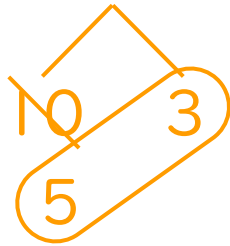


名まえ _____

・ けいさんをしましょう。(各20点)

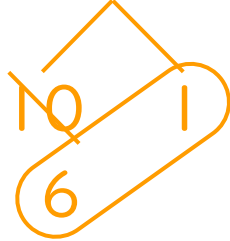
① $13 - 5 =$

8



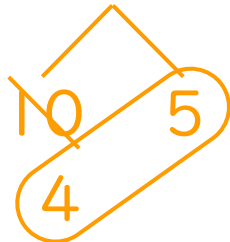
② $11 - 4 =$

7



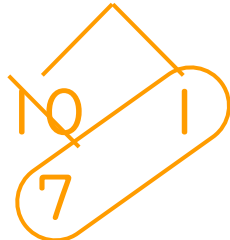
③ $15 - 6 =$

9



④ $11 - 3 =$

8



⑤ $12 - 4 =$

8

