



くりさがりのある
ひきざん 5

● くりさがりのけいさん
(6や5をひく)

16

めざせ80点!



名まえ _____

・ けいさんをしましょう。(各20点)

① $15 - 6 =$

② $13 - 7 =$

③ $14 - 5 =$

④ $13 - 5 =$

⑤ $12 - 6 =$



くりさがりのある
ひきざん 5

● くりさがりのけいさん
(6や5をひく)

16

めざせ80点!

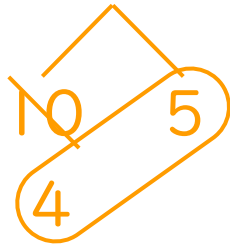


名まえ _____

・ けいさんをしましょう。(各20点)

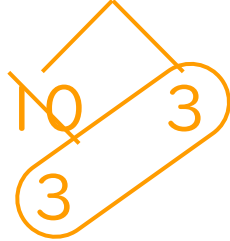
① $15 - 6 =$

9



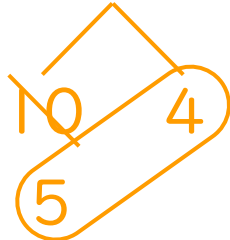
② $13 - 7 =$

6



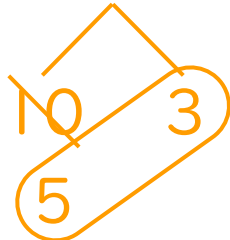
③ $14 - 5 =$

9



④ $13 - 5 =$

8



⑤ $12 - 6 =$

6

