




くりさがりのある
ひきざん 2

● くりさがりの けいさん
(9 をひく)

16

めざせ80点!



名まえ _____

・ けいさんをしましょう。(各20点)

① $18 - 9 =$

② $16 - 9 =$

③ $13 - 9 =$

④ $17 - 9 =$

⑤ $11 - 9 =$



くりさがりのある
ひきざん 2

● くりさがりの けいさん
(9 をひく)

16

めざせ80点!

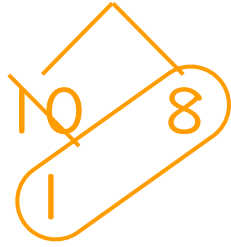


名まえ _____

・ けいさんをしましょう。(各20点)

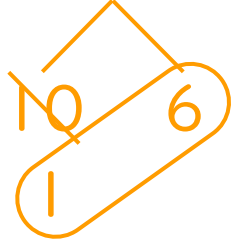
① $18 - 9 =$

9



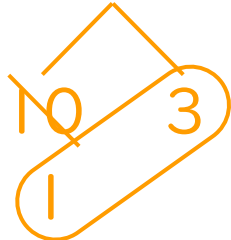
② $16 - 9 =$

7



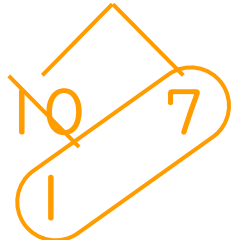
③ $13 - 9 =$

4



④ $17 - 9 =$

8



⑤ $11 - 9 =$

2

