



たしざんと
ひきざん 4

● すわれないひとはなんにん?
(こすうとにんずう)

16

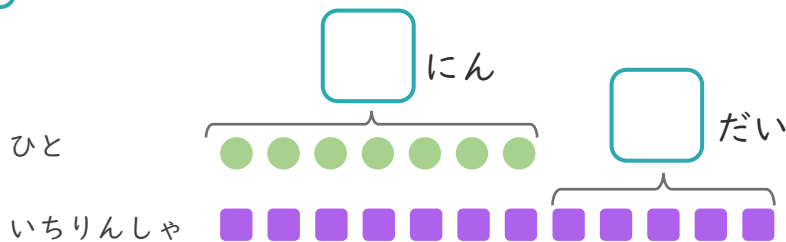
めざせ80点!



名まえ

1 7にんがいちりんしゃにのっています。
いちりんしゃはあと5だいあります。

① にあうかずをかきましょう。(20点)



● と ■ をせんで
むすびましょう。

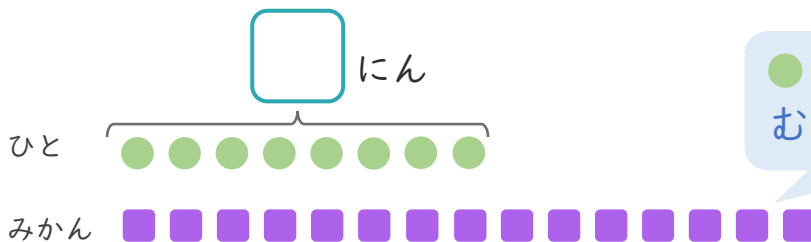
② いちりんしゃは、ぜんぶでなんだいありますか。(30点)

しき：

こたえ

2 みかんが15こあります。
8にんに1こずつわけました。

① にあうかずをかきましょう。(20点)



● と ■ をせんで
むすびましょう。

② みかんは、なんこのこりますか。(30点)

しき：

こたえ





たしざんと
ひきざん 4

● すわれないひとはなんにん?
(こすうとにんずう)

16

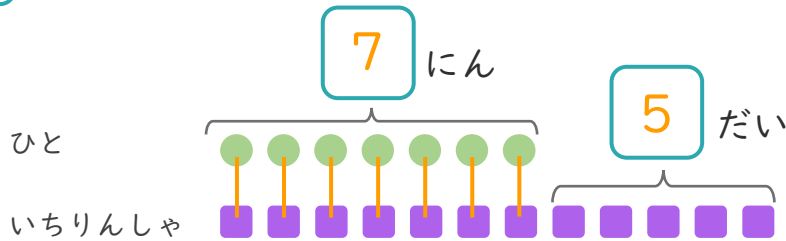
めざせ80点!



名まえ

1 7にんがいちりんしゃにのっています。
いちりんしゃはあと5だいあります。

① □にあうかずをかきましょう。(20点)



● と ■ を せんで
むすびましょう。

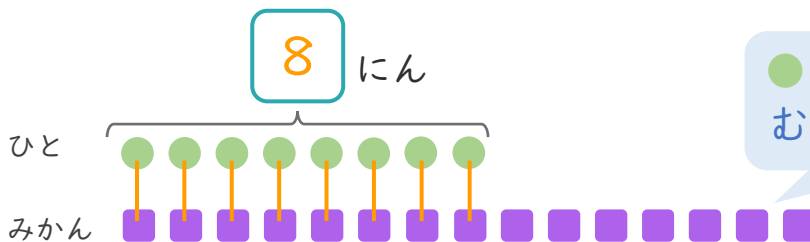
② いちりんしゃは、ぜんぶでなんだいありますか。(30点)

しき： $7 + 5 = 12$

こたえ { 12 だい }

2 みかんが15こあります。
8にんに1こずつわけました。

① □にあうかずをかきましょう。(20点)



● と ■ を せんで
むすびましょう。

② みかんは、なんこのこりますか。(30点)

しき： $15 - 8 = 7$

こたえ { 7 こ }

