



たしざんと
ひきざん 3

● ぜんぶでなんだい?
(にんずうとだいすう)

16

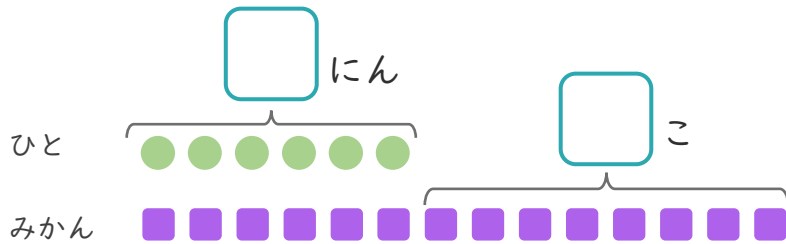
めざせ80点!



名まえ

1 6にんにみかんを1こずつわけました。
みかんはあと8こあります。

① にあうかずをかきましょう。



● と ■ を せんで
むすびましょう。

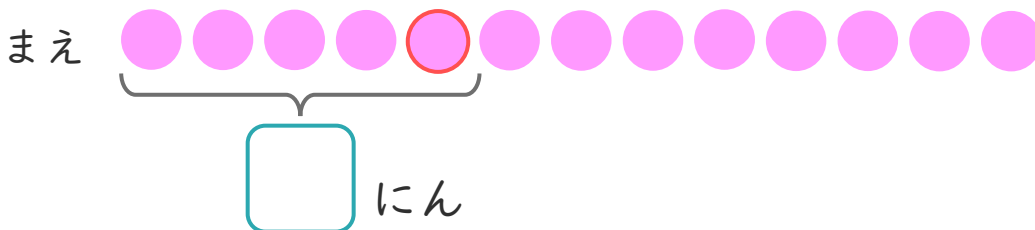
② みかんは、ぜんぶでなんこありますか。

しき：

こたえ

2 おかしゃさんに13にんならんでいます。
かなたさんはまえから5ばんめにいます。

① にあうかずをかきましょう。



② かなたさんのうしろにはなんにんいますか。

しき：

こたえ





たしざんと
ひきざん 3

● ぜんぶでなんだい?
(にんずうとだいすう)

16

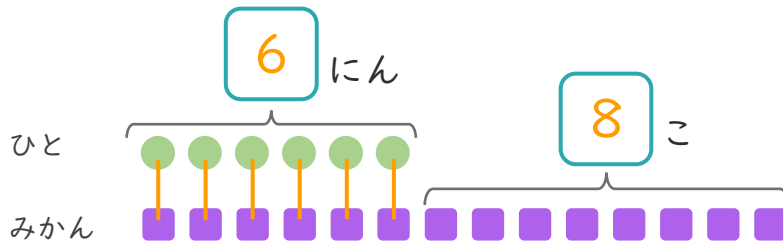
めざせ80点!



名まえ

1 6にんにみかんを1こずつわけました。
みかんはあと8こあります。

① □にあうかずをかきましょう。



●と■をせんで
むすびましょう。

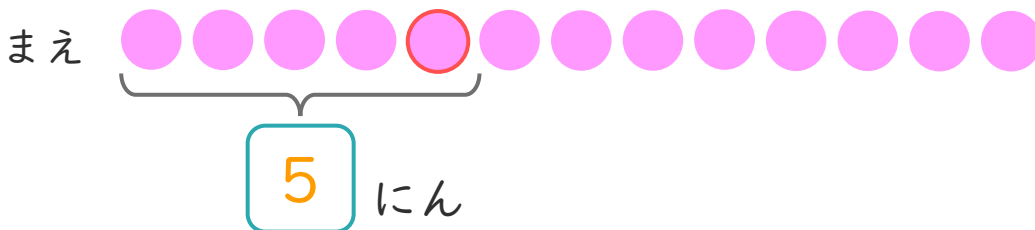
② みかんは、ぜんぶでなんこありますか。

しき： $6 + 8 = 14$

こたえ { 14 こ }

2 おかしやさんに13にんならんでいます。
かなたさんはまえから5ばんめにいます。

① □にあうかずをかきましょう。



② かなたさんのうしろにはなんにんいますか。

しき： $13 - 5 = 8$

こたえ { 8 にん }

