



たしざんと
ひきざん 7

● まえとうしろのにんずう
ぜんぶでなんにん?

16

めざせ80点!

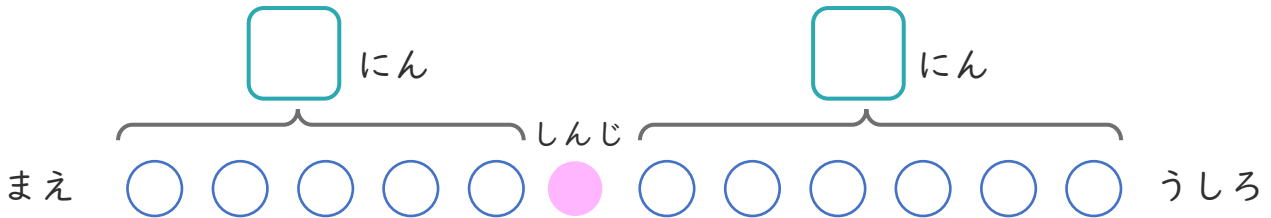


名まえ

1

こどもがならんでいます。しんじさんのまえに 5 にん、
うしろに 6 にん います。

① にあうかずをかきましょう。(20点)



② ぜんぶでなんにんならんでいますか。(30点)

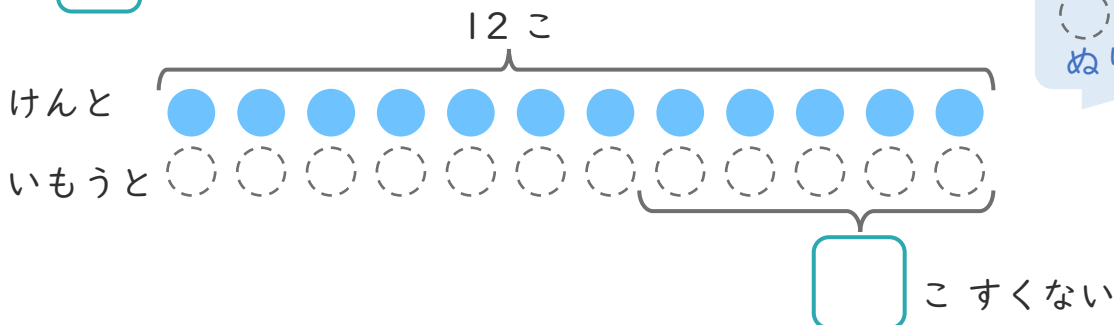
しき:

こたえ

2

けんさんはくりを 12 こ ひろいました。
いもうとは、けんさんより 5 こ すくなかった そうです。

① にあうかずをかきましょう。(20点)



○にいろを
ぬりましょう。

② いもうとは、なんこ ひろいましたか。(30点)

しき:

こたえ





たしざんと
ひきざん 7

● まえとうしろのにんずう
ぜんぶでなんにん？

16

めざせ80点!

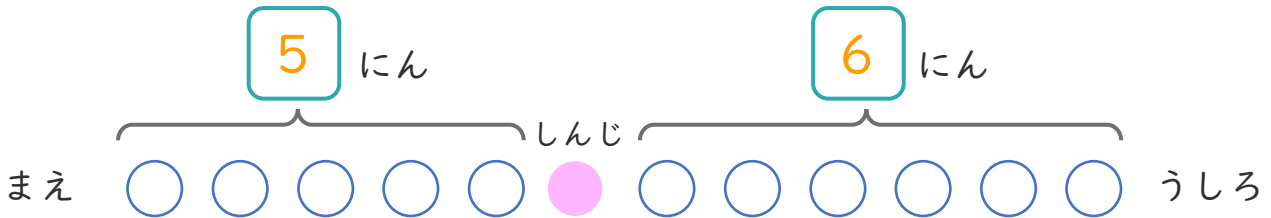


名まえ

1

こどもがならんでいます。しんじさんのまえに 5 にん、
うしろに 6 にん います。

① にあうかずをかきましょう。(20点)



② ぜんぶでなんにんならんでいますか。(30点)

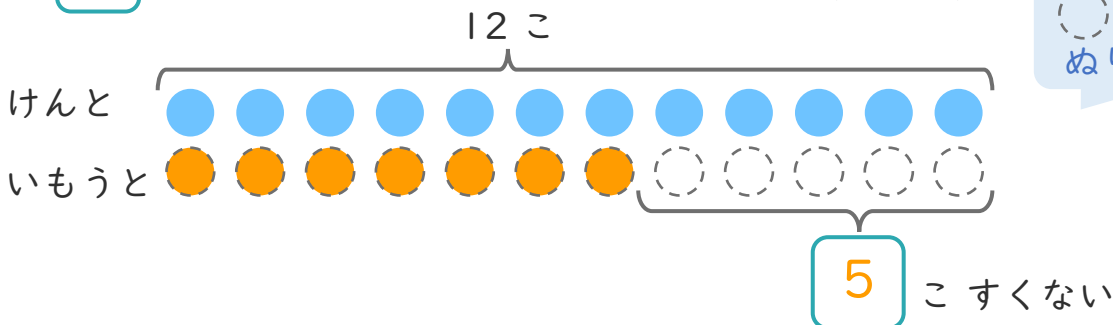
しき： $5 + 1 + 6 = 12$

こたえ $\left\{ \begin{array}{l} 12 \\ \text{にん} \end{array} \right\}$

2

けんさんはくりを 12 こ ひろいました。
いもうとは、けんさんより 5 こ すくなかった そうです。

① にあうかずをかきましょう。(20点)



② いもうとは、なんこ ひろいましたか。(30点)

しき： $12 - 5 = 7$

こたえ $\left\{ \begin{array}{l} 7 \\ \text{こ} \end{array} \right\}$

