



たしざんと
ひきざん 6

● どんぐりはなんこ?
(きゅうしよう)

16

めざせ80点!

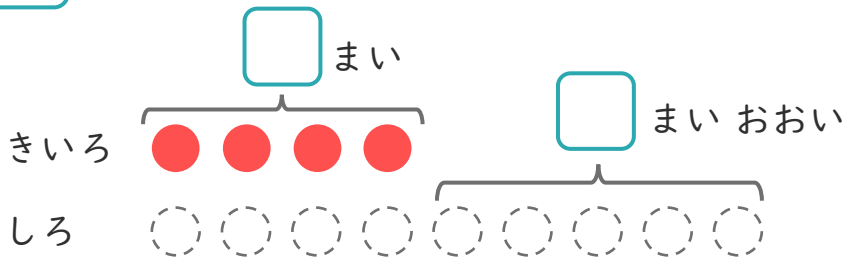


名まえ _____

1

きいろいかみを4まいかいました。
しろいかみは、あかいかみより5まいおおくかいました。

① にあうかずをかきましょう。(20点)



○にいろをぬりましょう。

② しろいかみはなんまいかいましたか。(30点)

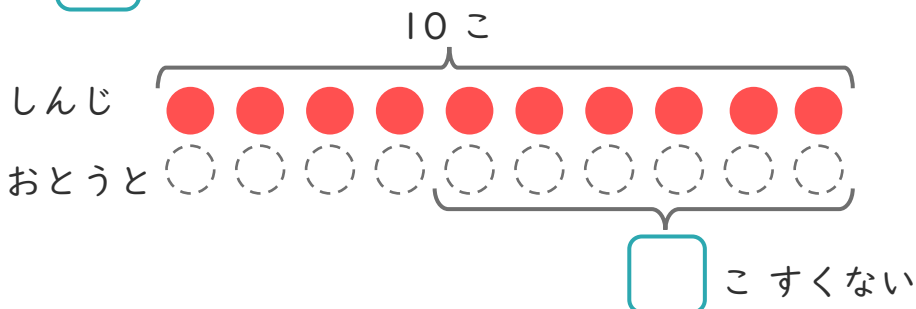
しき:

こたえ {

2

しんじさんはどんぐりを10こひろいました。
おとうとは、しんじさんより6こすくなくったそうです。

① にあうかずをかきましょう。(20点)



○にいろをぬりましょう。

② おとうとは、なんこひろいましたか。(30点)

しき:

こたえ {





たしざんと
ひきざん 6

● どんぐりはなんこ?
(きゅうしょう)

16

めざせ80点!

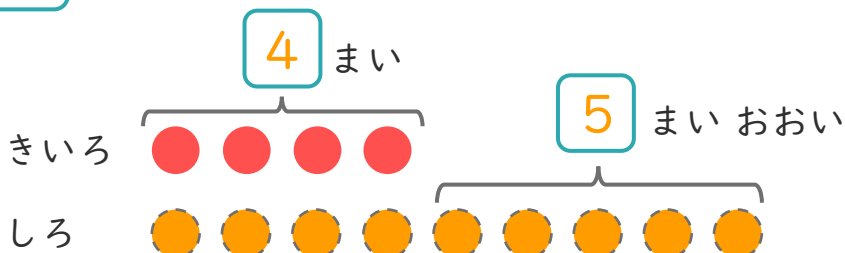


名まえ _____

1

きいろいかみを4まいかいました。
しろいかみは、あかいかみより5まいおおくかいました。

① □にあうかずをかきましょう。(20点)



○にいろをぬりましょう。

② しろいかみはなんまいかいましたか。(30点)

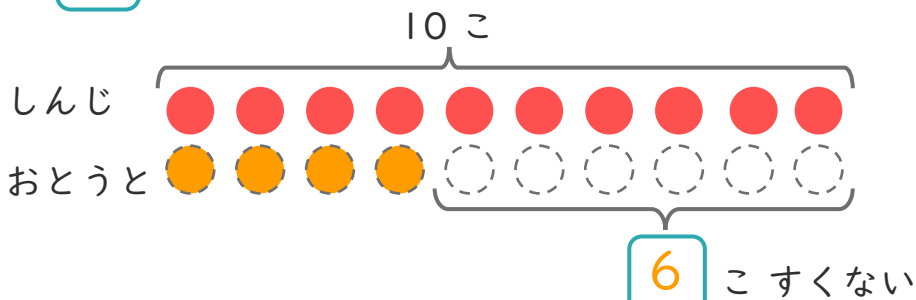
しき： $4 + 5 = 9$

こたえ { 9 まい }

2

しんじさんはどんぐりを10こひろいました。
おとうとは、しんじさんより6こすくなくったそうです。

① □にあうかずをかきましょう。(20点)



○にいろをぬりましょう。

② おとうとは、なんこひろいましたか。(30点)

しき： $10 - 6 = 4$

こたえ { 4 こ }

