



たしざんと  
ひきざん 5

● みかんのあめはなんこ?  
(きゅうだい)

16

めざせ80点!

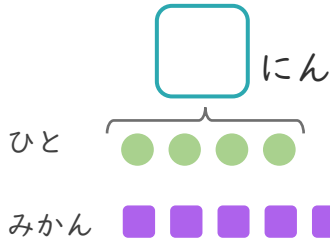


名まえ \_\_\_\_\_

1 みかんが11こあります。

4にんに1つずつわけました。

①  にあうかずをかきましょう。(20点)



●と■をせんで  
おすびましょう。

② みかんは、なんこのこりますか。(30点)

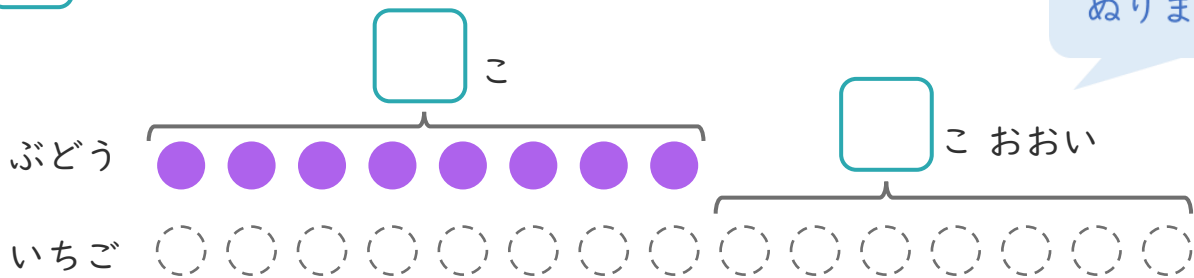
しき:

こたえ {

2 ぶどうのあめが8こあります。

いちごのあめは、ぶどうのあめより7こおいそです。

①  にあうかずをかきましょう。(20点)



○にいろを  
ぬりましょう。

② いちごのあめはなんこありますか。(30点)

しき:

こたえ {





たしざんと  
ひきざん 5

● みかんのあめはなんこ?  
(きゅうだい)

16

めざせ80点!

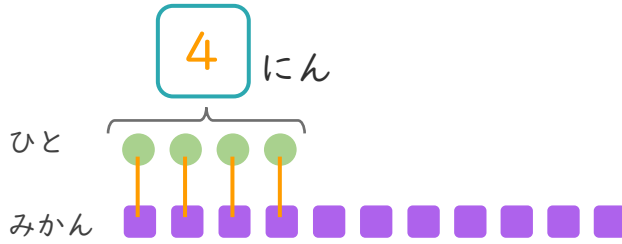


名まえ \_\_\_\_\_

1 みかんが11こあります。

4にんに1つずつわけました。

①  にあうかずをかきましょう。(20点)



● と ■ をせんで  
おすびましょう。

② みかんは、なんこのこりますか。(30点)

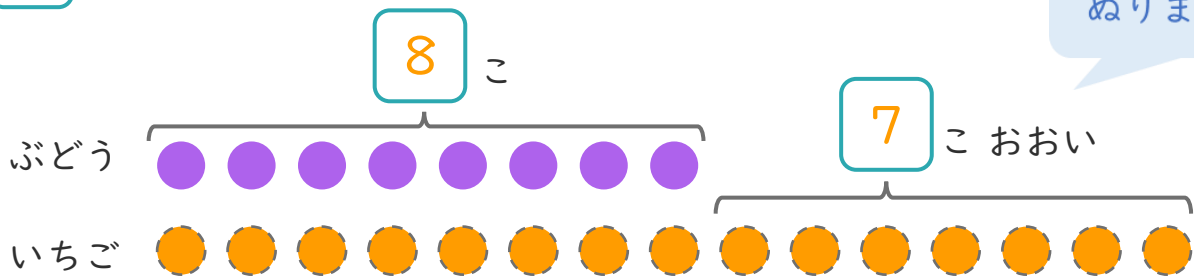
しき： $11 - 4 = 7$

こたえ { 7 こ }

2 ぶどうのあめが8こあります。

いちごのあめは、ぶどうのあめより7こおいそです。

①  にあうかずをかきましょう。(20点)



○ にいろを  
ぬりましょう。

② いちごのあめはなんこありますか。(30点)

しき： $8 + 7 = 15$

こたえ { 15 こ }

