




たしざんと
ひきざん！

◎ みんなでなんにん？
(ならびじゆん・がっぺい)

16

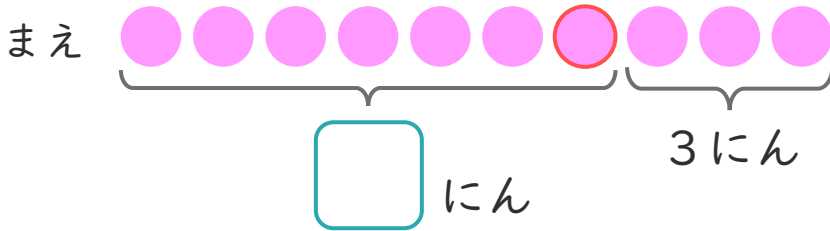
めざせ80点！



名まえ

1 | りほさんは、まえから 7ばんめにいます。
りほさんの うしろに 3にんいます。

① にあうかずをかきましょう。(20点)



② みんなでなんにんいますか。

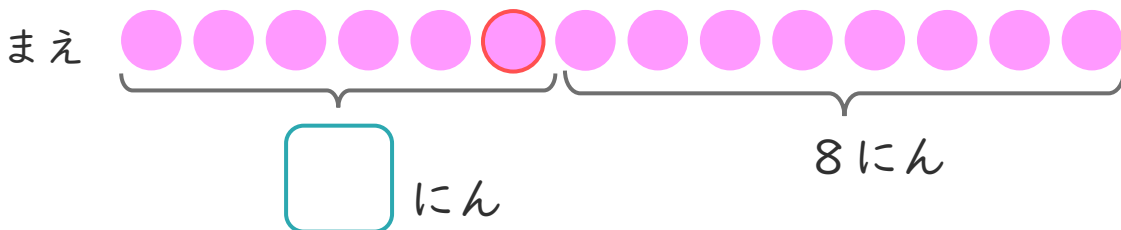
(30点)

しき：

こたえ

2 | ゆうとさんは、まえから 6ばんめにいます。
ゆうとたさんの うしろに 8にんいます。

① にあうかずをかきましょう。(20点)



② みんなでなんにんいますか。

(30点)

しき：

こたえ






たしざんと ひきざん！

◎ みんなでなんにん？
(ならびじゅん・がっぺい)

16

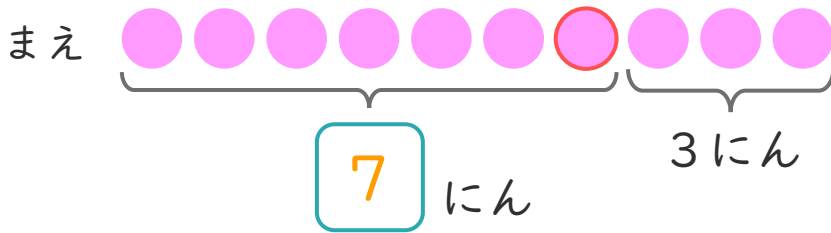
めざせ80点！



名まえ _____

1 | りほさんは、まえから 7ばんめにいます。
りほさんの うしろに 3にんいます。

① にあうかずをかきましょう。(20点)



② みんなでなんにんいますか。

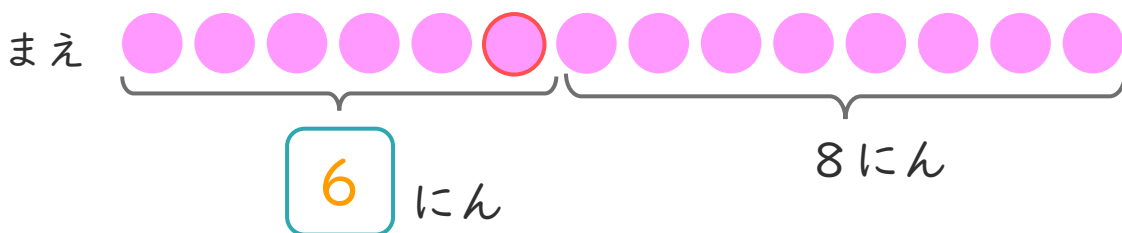
(30点)

しき： $7 + 3 = 10$

こたえ $\left(10 \text{ にん} \right)$

2 | ゆうとさんは、まえから 6ばんめにいます。
ゆうとたさんの うしろに 8にんいます。

① にあうかずをかきましょう。(20点)



② みんなでなんにんいますか。

(30点)

しき： $6 + 8 = 14$

こたえ $\left(14 \text{ にん} \right)$

