




くりあがりのある  
たしざん 8

● えとぶんしょうから  
しきをつくろう


16

めざせ100点!




名まえ \_\_\_\_\_

1 みかんは あわせて なんこ ですか。しきをかきましょう。(50点)




8こ




9こ

しき： +  =

2 いちごは あわせて なんこ ですか。しきをかきましょう。(50点)



7こ



5こ

しき： +  =




くりあがりのある  
たしざん 8

● えとぶんしょうから  
しきをつくろう


16

めざせ100点!




名まえ \_\_\_\_\_

1 みかんは あわせて なんこ ですか。しきをかきましょう。(50点)




8こ




9こ

しき :  $\boxed{8} + \boxed{9} = \boxed{17}$

2 いちごは あわせて なんこ ですか。しきをかきましょう。(50点)



7こ



5こ

しき :  $\boxed{7} + \boxed{5} = \boxed{12}$