




10より
おおきいかず 10
● 10といくつかをたしたしき



めざせ90点!



名まえ _____

1 たしざんをしましょう。(各16点)

① $10 + 5 =$

④ $10 + 9 =$

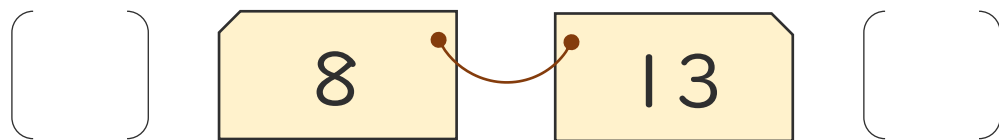
② $10 + 8 =$

⑤ $10 + 10 =$

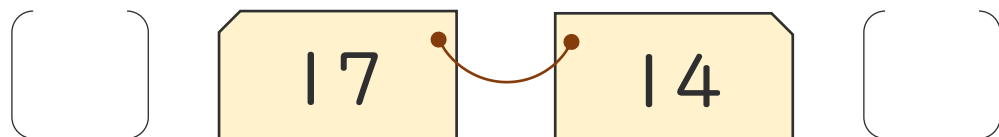
③ $10 + 3 =$

2 おおきいほうに○をつけましょう。(各10点)

①



②






10より
おおきいかず 10
● 10といくつかをたしたしき

16

めざせ90点!



名まえ _____

1 たしざんをしましょう。(各16点)

① $10 + 5 = 15$

④ $10 + 9 = 19$

② $10 + 8 = 18$

⑤ $10 + 10 = 20$

③ $10 + 3 = 13$

2 おおきいほうに○をつけましょう。(各10点)

①

() (○)

②

(○) ()

