




# おおきいかず 7

3つおおきいかずを、  
かずのせんでしらべよう

16

めざせ100点!



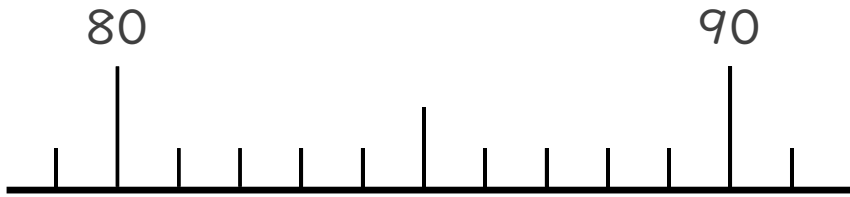
てん

名まえ \_\_\_\_\_

1 かずのせんをつかってしらべましょう。

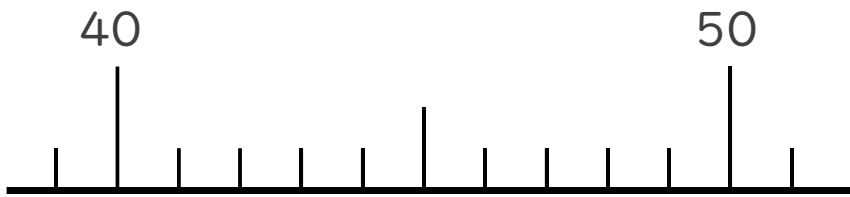
(各25点)

① 84より 2ちいさいかず



( )

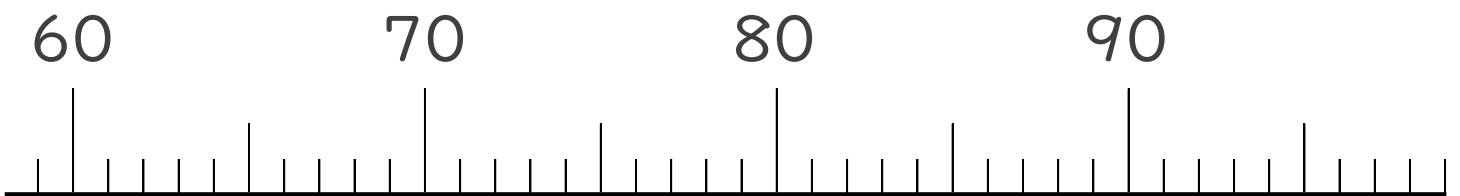
② 44より 3おおきいかず



( )

2 かずのせんをみて、㊦、㊧のめもりがあらわすかずを  
いしましょう。

(各25点)



↑  
㊦

( )

↑  
㊧

( )






# おおきいかず 7

3つおおきいかずを、  
かずのせんでしらべよう

16

めざせ100点!



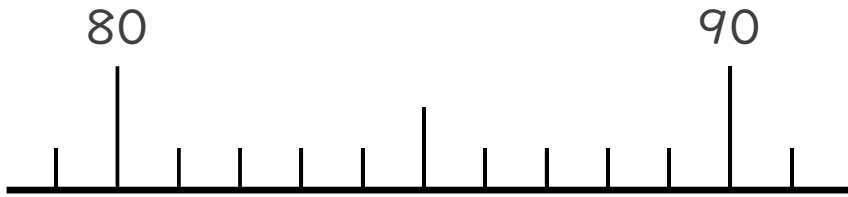
てん

名まえ \_\_\_\_\_

1 かずのせんをつかってしらべましょう。

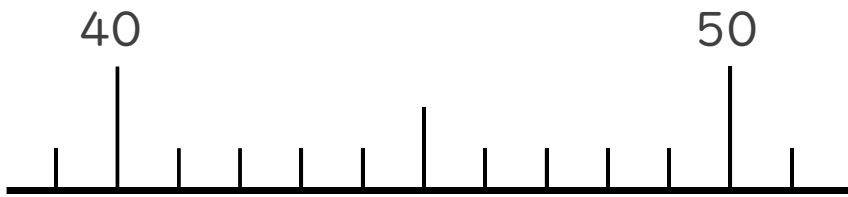
(各25点)

① 84より 2ちいさいかず



( 82 )

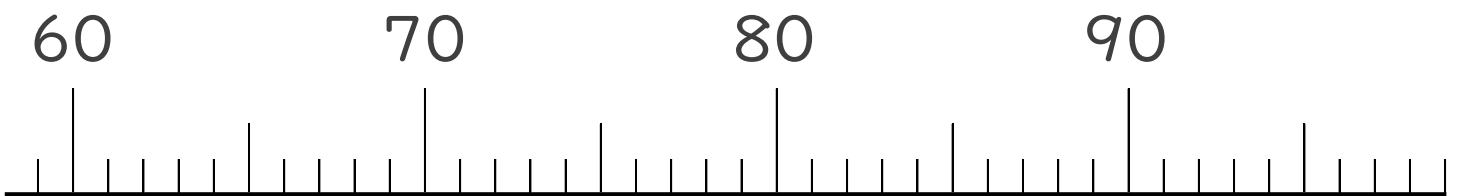
② 44より 3おおきいかず



( 47 )

2 かずのせんをみて、㉞、㉟のめもりがあらわすかずを  
いしましょう。

(各25点)



㉞

( 76 )

㉟

( 93 )

