




おおきいかず 12

● 30と5をあわせた数

16

めざせ90点!



名まえ _____

1 たしざんをしましょう。(各10点)

① $60 + 8 = \square$

④ $70 + 5 = \square$

② $30 + 7 = \square$


⑤ $90 + 9 = \square$

③ $40 + 1 = \square$

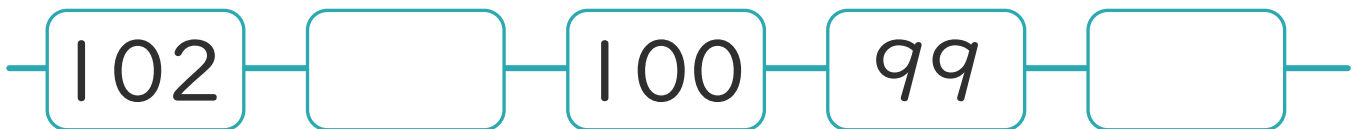
⑥ $50 + 3 = \square$

2 \square にかずをかきましょう。(各10点)

①



②






おおきいかず 12

● 30 と 5 をあわせた数

16

めざせ90点!



名まえ _____

1 たしざんをしましょう。(各10点)

① $60 + 8 = 68$

④ $70 + 5 = 75$

② $30 + 7 = 37$

⑤ $90 + 9 = 99$

③ $40 + 1 = 41$

⑥ $50 + 3 = 53$

2 □ にかずをかきましょう。(各10点)

①



②

