



あわせていくつ4

● あとからふえる





日にち： 月 日

名まえ _____

・ しきにかいてこたえましょう。(うすいじはなぞりましょう。)

① あひるが2わいます。あとから4わきました。

あひるはみんなでなんわになりましたか。



しき


		+			=		

こたえ

わ

② かびんにはなが3ぼんはっています。あとから5ほん

いれました。はなはぜんぶでなんぼんになりましたか。



しき

		+			=		

こたえ

ぼん





あわせていくつ4

● あとからふえる

2



日にち： 月 日

名まえ _____

・ しきにかいてこたえましょう。(うすいじはなぞりましょう。)

① あひるが2わいます。あとから4わきました。

あひるはみんなでなんわになりましたか。



しき

$$2 + 4 = 6$$


こたえ

6

わ

② かびんにはなが3ぼんはっています。あとから5ぼん

いれました。はなはぜんぶでなんぼんになりましたか。



しき

$$3 + 5 = 8$$

こたえ

8

ぼん

