



くりあがりのある たしざん！

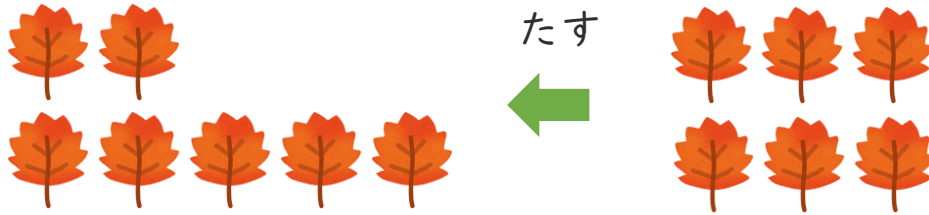
● あわせていくつ？
(えをみてかんがえよう)



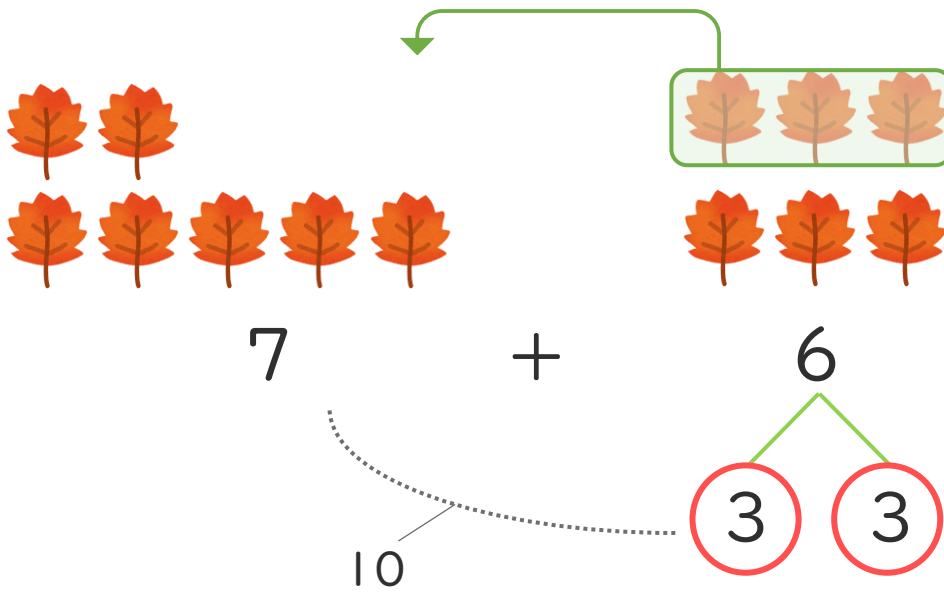
日にち： 月 日

名まえ _____

- ・ ゆうきさんは おちばを 7まい、たくやさんは 6まいひろいました。あわせてなんまいひろいましたか。



- ① けいさんのしかたをかんがえましょう。



- ② しきとこたえをかきましょう。(うすいじはなぞりましょう。)

しき $\left[\quad 7 \quad + \quad = \quad \right]$

こたえ $\left[\quad \quad \right]$



くりあがりのある
たしざん！

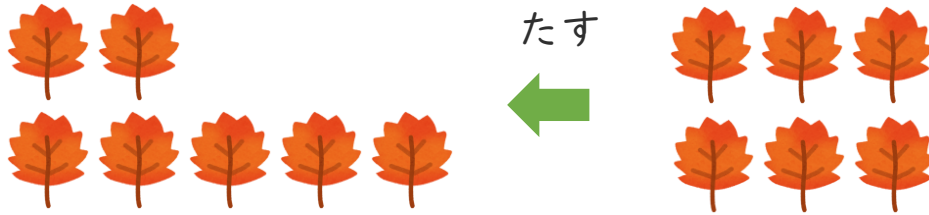
● あわせていくつ？
(えをみてかんがえよう)



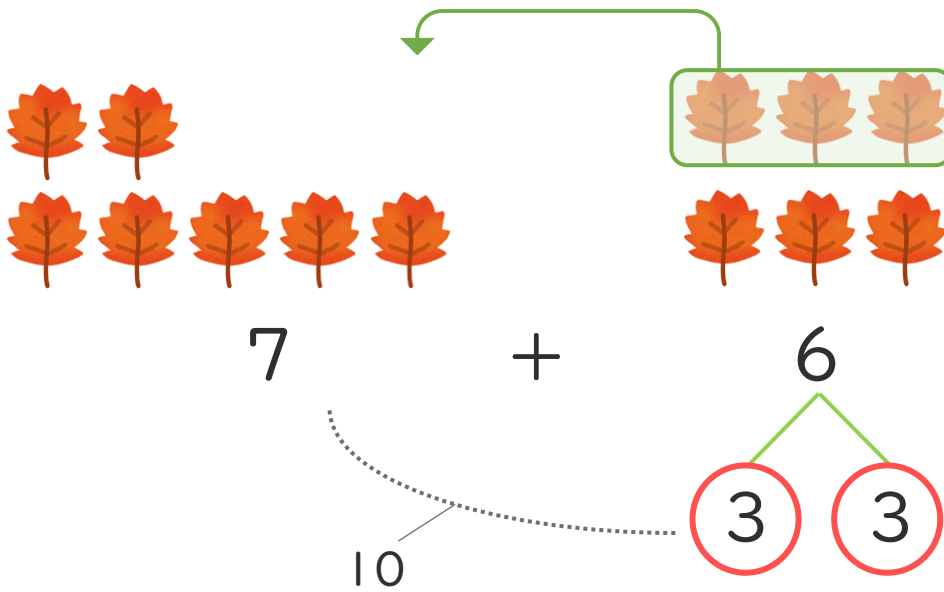
日にち： 月 日

名まえ _____

- ・ ゆうきさんは おちばを 7まい、たくやさんは 6まいひろいました。あわせてなんまいひろいましたか。



- ① けいさんのしかたをかんがえましょう。



- ② しきとこたえをかきましょう。(うすいじはなぞりましょう。)

しき $\left[7 + 6 = 13 \right]$

こたえ $\left[13 \text{まい} \right]$

