




なまづくりとかず 12

● あわせて10になるかず



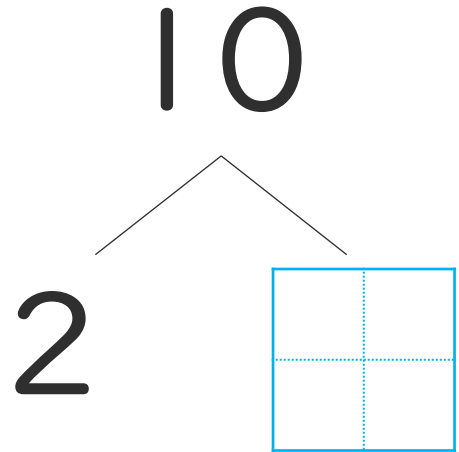
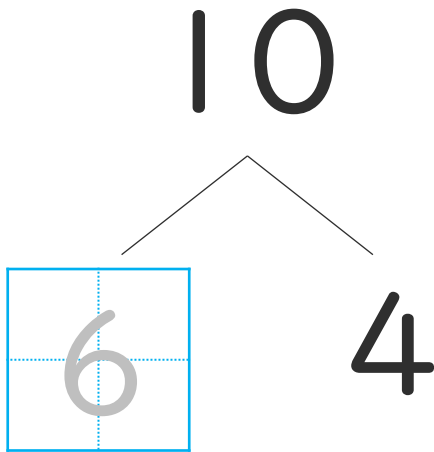
日にち： 月 日

名まえ _____

・ いくつでしょう。  にすうじをかきましょう。
(うすいじはなぞりましょう。)

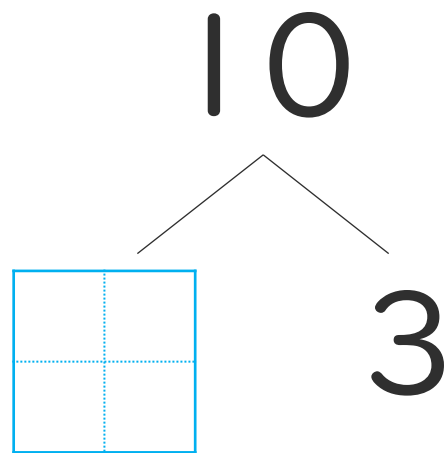
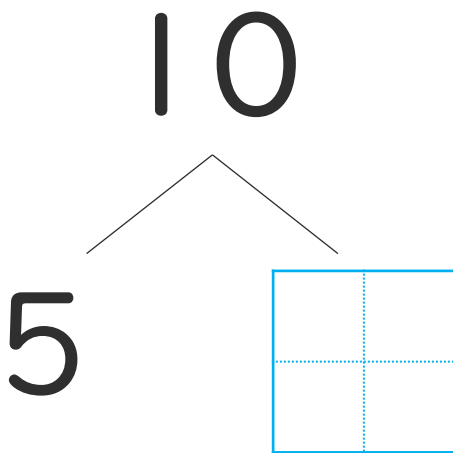
①

③



②

④






なかまづくりとかず 12

● あわせて10になるかず



日にち： 月 日

名まえ _____

・ いくつかでしょう。  にすうじをかきましょう。
(うすいじはなぞりましょう。)

①

③

10

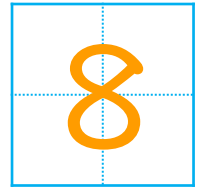


4



10

2



②


④

10

5



10



3

