



のこりはいくつ！

● えをみてかんがえよう


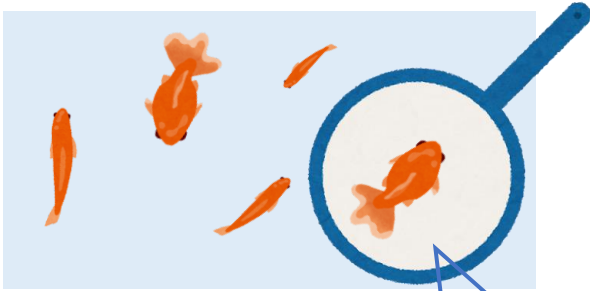
2

日にち： 月 日

名まえ _____

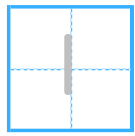
- きんぎょがいます。すくうとのこりはなんびきでしょう。
(うすいじはなぞりましょう。)

①



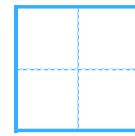
ひき

いる



びき


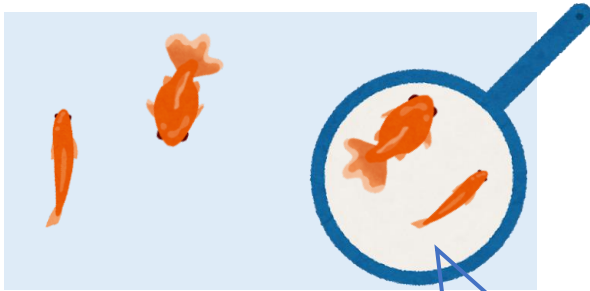
すくう



ひき

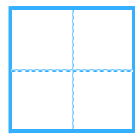
のこり

②



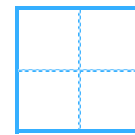
ひき

いる



ひき

すくう



ひき

のこり





のこりはいくつ！

● えをみてかんがえよう

2


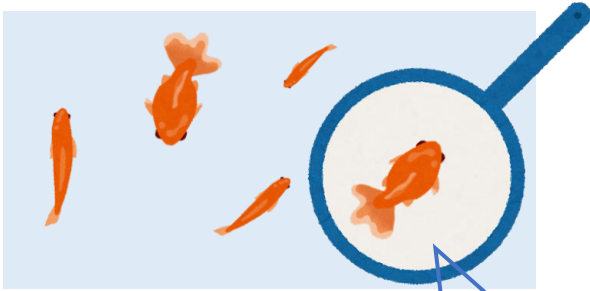
日にち： 月 日

名まえ _____

・ きんぎょがいます。すくうとのこりはなんびきでしょう。

(うすいじはなぞりましょう。)

①



5 ひき

いる


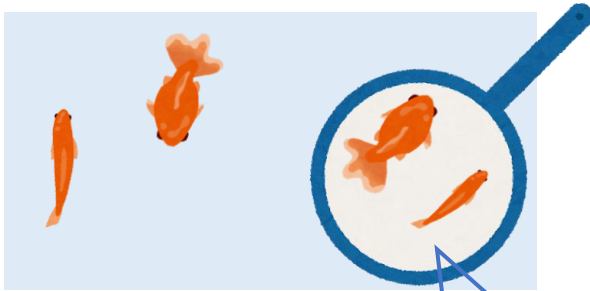
1 ひき

すくう

4 ひき

のこり

②



4 ひき

いる

2 ひき

すくう

2 ひき

のこり

