



のこりはいくつ！

● えをみてかんがえよう


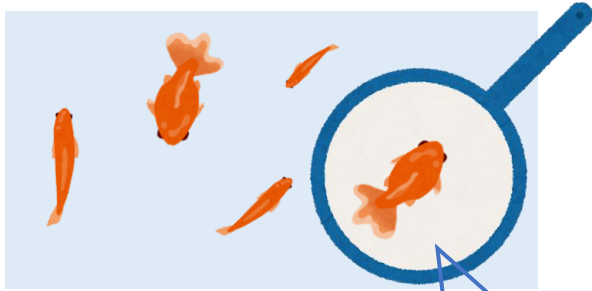
2

日にち： 月 日

名まえ \_\_\_\_\_

- きんぎょがいます。すくうとのこりはなんびきでしょう。  
(うすいじはなぞりましょう。)

①





5 ひき  
いる

ひき  
すくう

ひき  
のこり

②



4 ひき  
いる

ひき  
すくう

ひき  
のこり





のこりはいくつ！

● えをみてかんがえよう


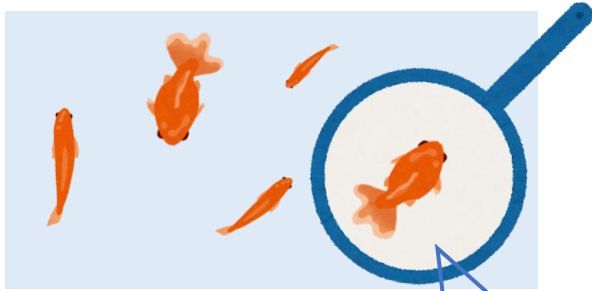
2

日にち： 月 日

名まえ \_\_\_\_\_

- きんぎょがいます。すくうとのこりはなんびきでしょう。  
(うすいじはなぞりましょう。)

①





5 ひき  
いる

1 ひき  
すくう

4 ひき  
のこり

②



4 ひき  
いる

2 ひき  
すくう

2 ひき  
のこり

