



おおきいかず 5

◎ おおきいかずは、
どちらでしょう



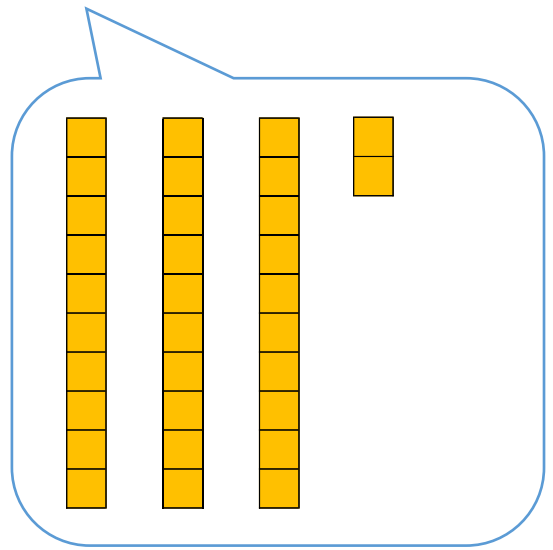
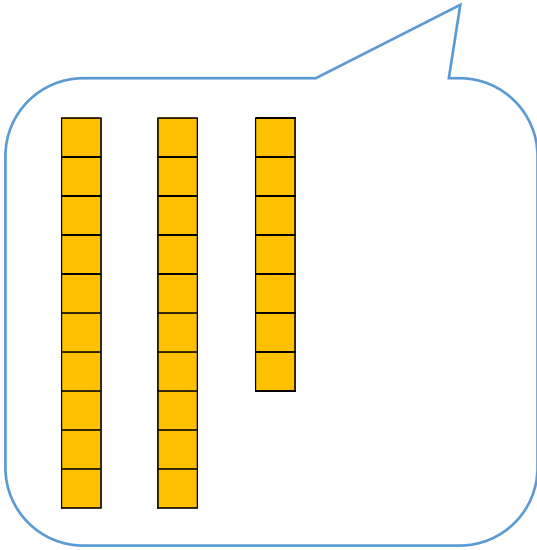
日にち： 月 日

名まえ _____

・ おおきいほうに ○ をつけましょう。(うすいじはなぞりましょう。)

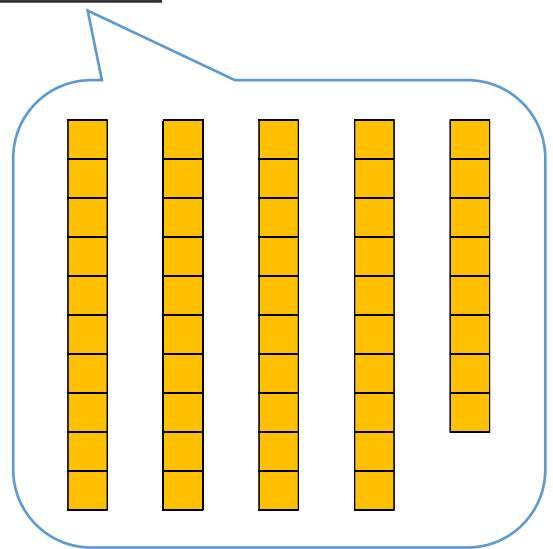
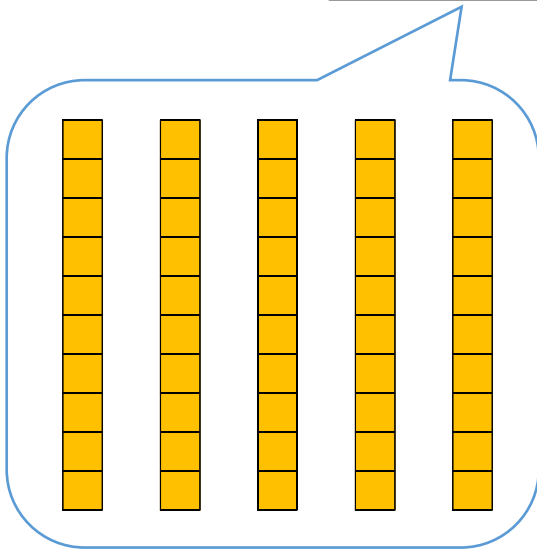
①

() 27 32 (○)



③

() 50 48 ()





おおきいかず 5

● おおきいかずは、
どちらでしょう



日にち： 月 日

名まえ _____

・ おおきいほうに ○ をつけましょう。(うすいじはなぞりましょう。)

①

() 27 32 (○)

③

(○) 50 48 ()

