

くりあがりのある
たしざん 6

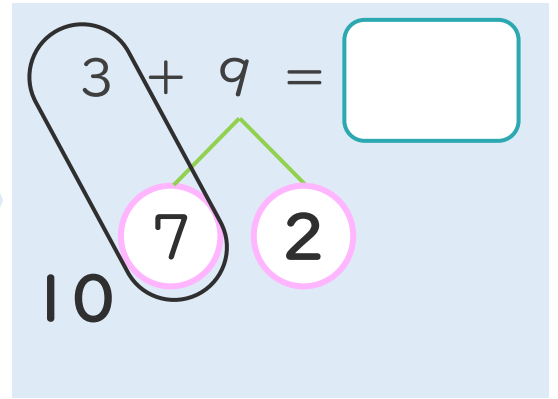
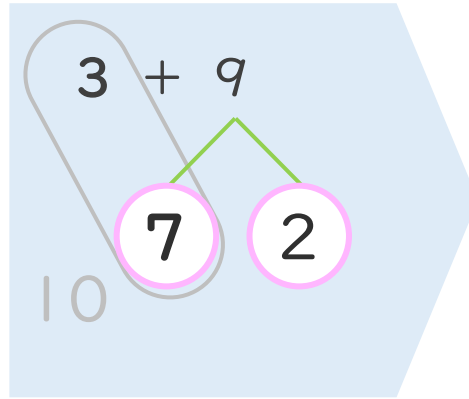
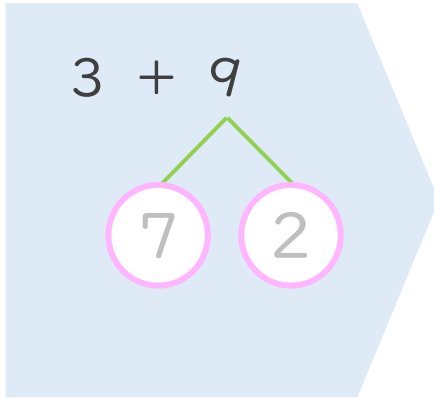
● くりあがりのけいさん
(4や3とたす)



日にち： 月 日

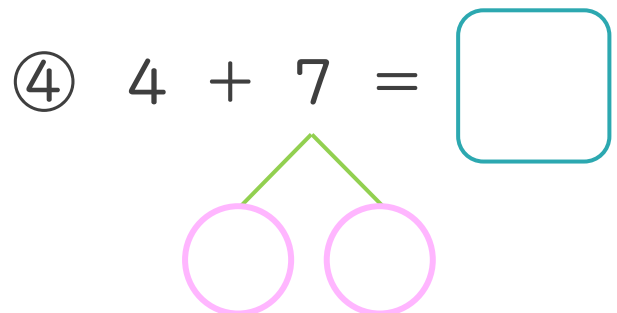
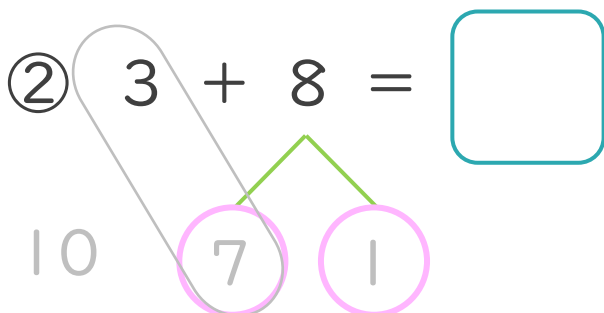
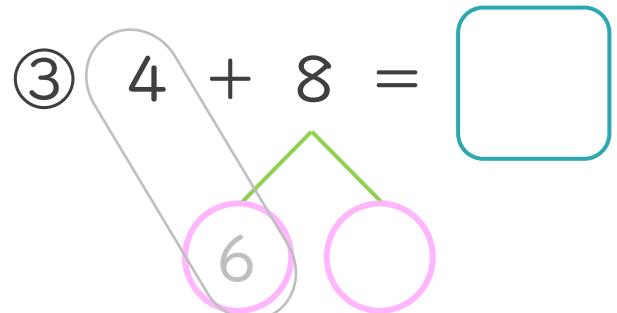
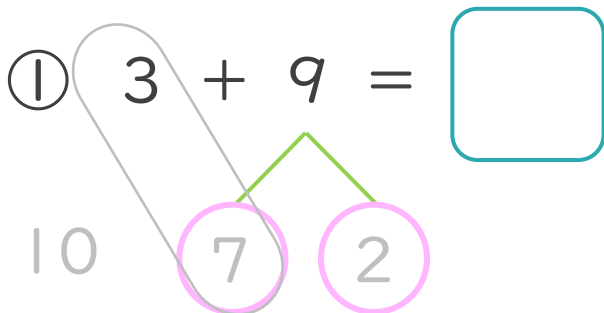
名まえ _____

< 3 + 9 の けいさんの しかた > (うすいじはなぞりましょう。)



- ① 9を
7と2に
わけます。
- ② 3に7を
たして10。
- ③ 10と2で12。

・ けいさんをしましょう。(うすいじはなぞりましょう。)





くりあがりのある
たしざん 6

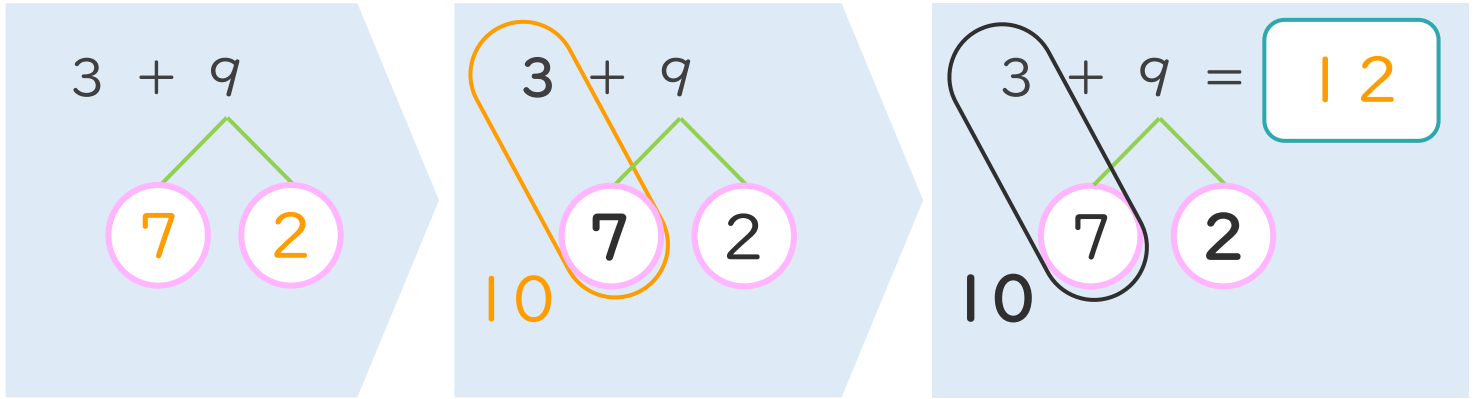
● くりあがりのけいさん
(4や3とたす)



日にち： 月 日

名まえ _____

< 3 + 9 の けいさんの しかた > (うすいじはなぞりましょう。)



- ① 9を
7と2に
わけます。
- ② 3に7を
たして10。
- ③ 10と2で12。

・ けいさんを しましょう。(うすいじはなぞりましょう。)

① $3 + 9 = 12$
10 7 2

③ $4 + 8 = 12$
10 6 2

② $3 + 8 = 11$
10 7 1

④ $4 + 7 = 11$
10 6 1

