

くりあがりのある
たしざん 5

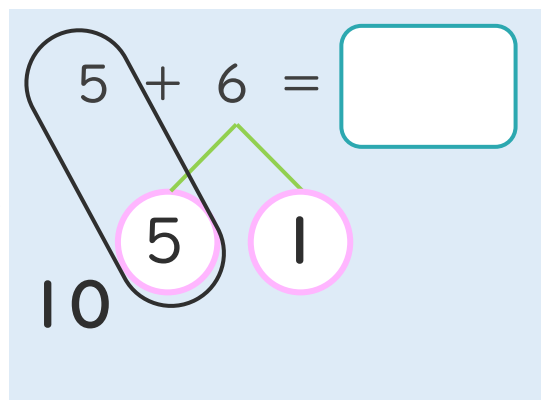
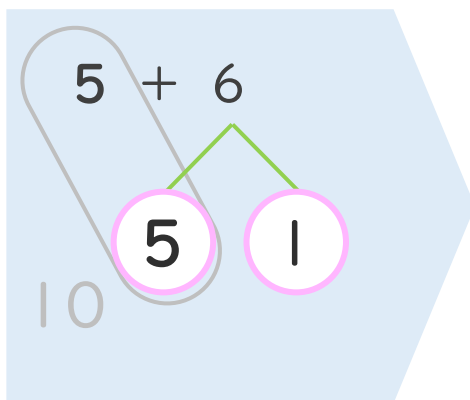
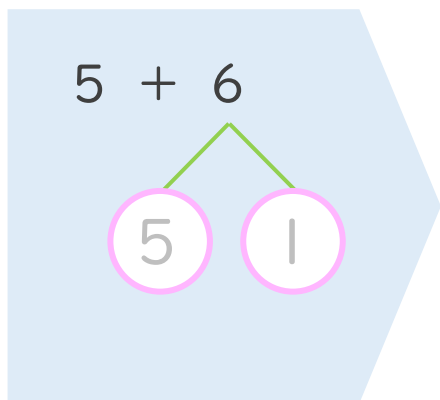
● くりあがりのけいさん
(6や5とたす)



日にち： 月 日

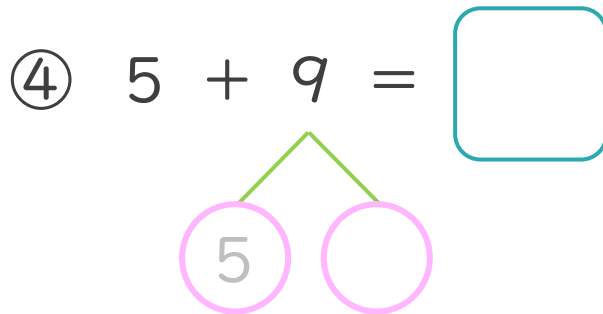
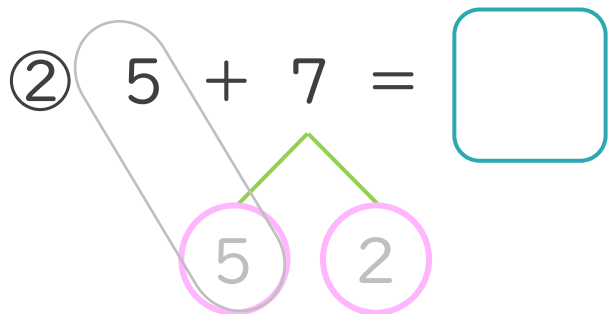
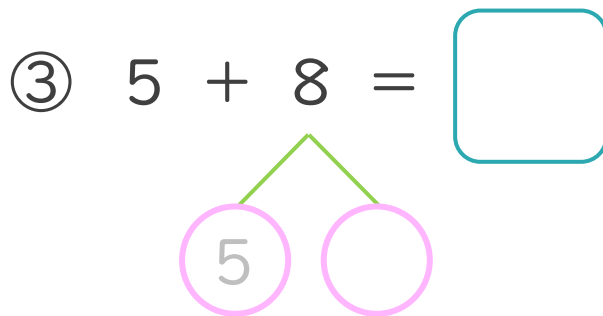
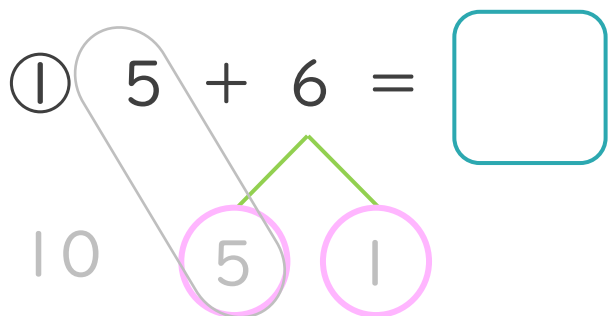
名まえ _____


< 5 + 6 の けいさんの しかた > (うすいじはなぞりましょう。)



- ① 6を
5と1に
わけます。
- ② 5に5を
たして10。
- ③ 10と1で11。

・ けいさんをしましょう。(うすいじはなぞりましょう。)





くりあがりのある
たしざん 5

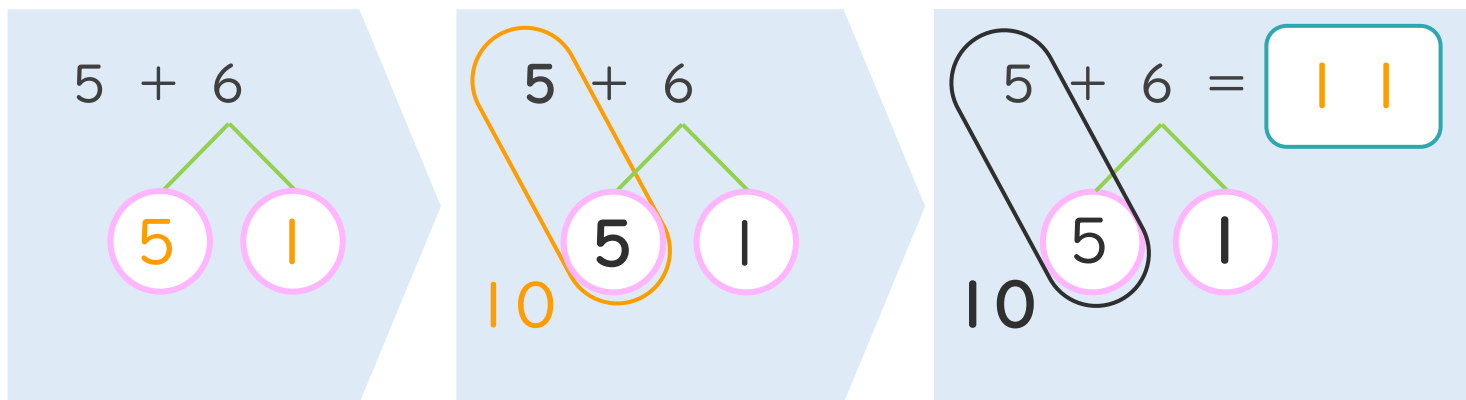
● くりあがりのけいさん
(6や5とたす)



日にち： 月 日

名まえ _____

< 5 + 6 の けいさんの しかた > (うすいじはなぞりましょう。)



- ① 6を
5と1に
わけます。
- ② 5に5を
たして10。
- ③ 10と1で11。

・ けいさんをしまししょう。(うすいじはなぞりましょう。)

① $5 + 6 = 11$

③ $5 + 8 = 13$

② $5 + 7 = 12$

④ $5 + 9 = 14$

