



くりさがりのある
ひきざん 6

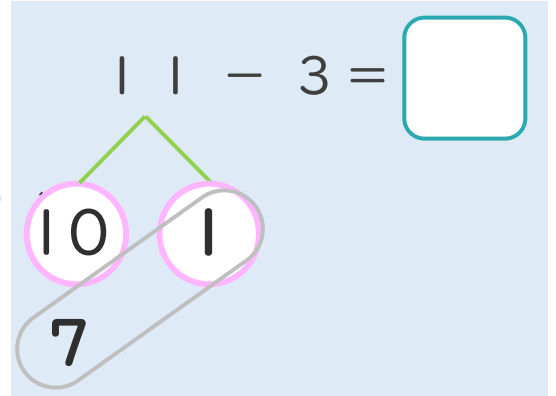
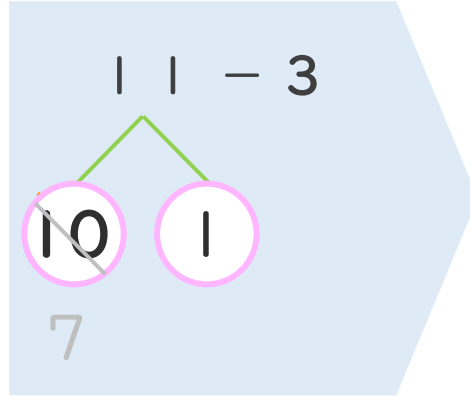
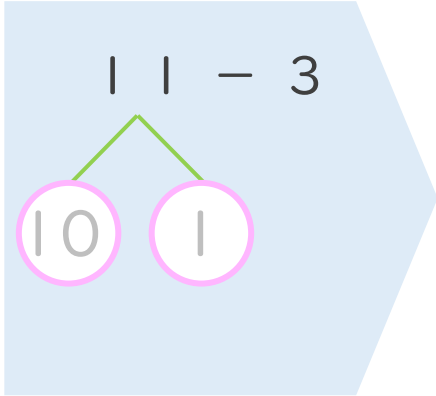
くりさがりのけいさん
(4や3をひく)



日にち： 月 日

名まえ _____

< 11 - 3 のけいさんのしかた > (うすいじはなぞりましょう。)



① 11を

10と1に

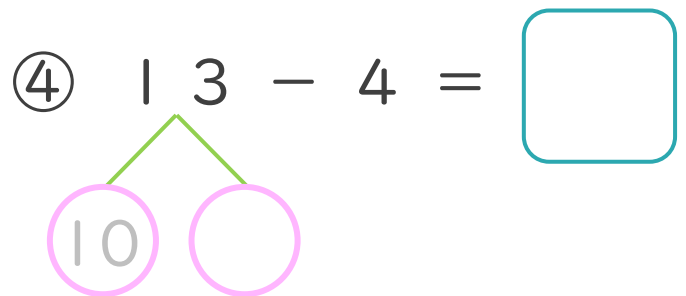
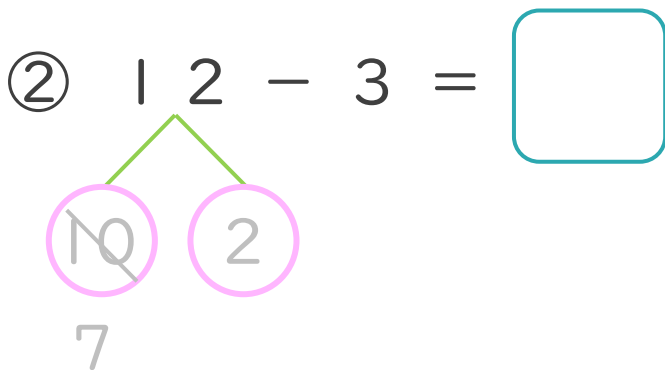
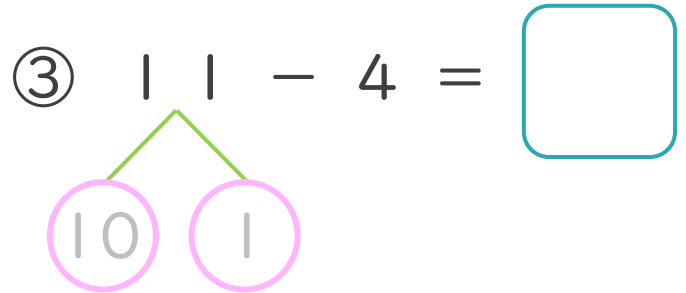
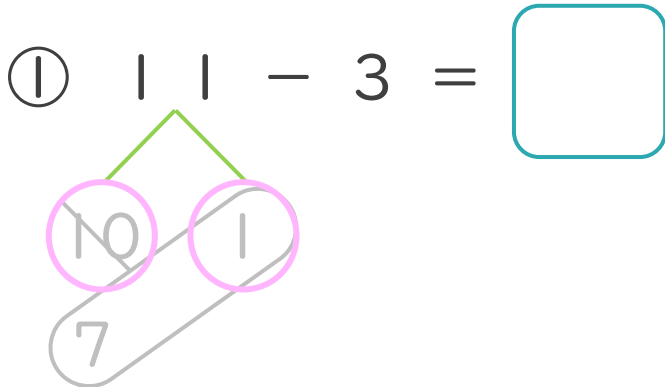
わけます。

② 10から3を

ひいて7。

③ 7と1で8。

・ けいさんをしましょう。(うすいじはなぞりましょう。)





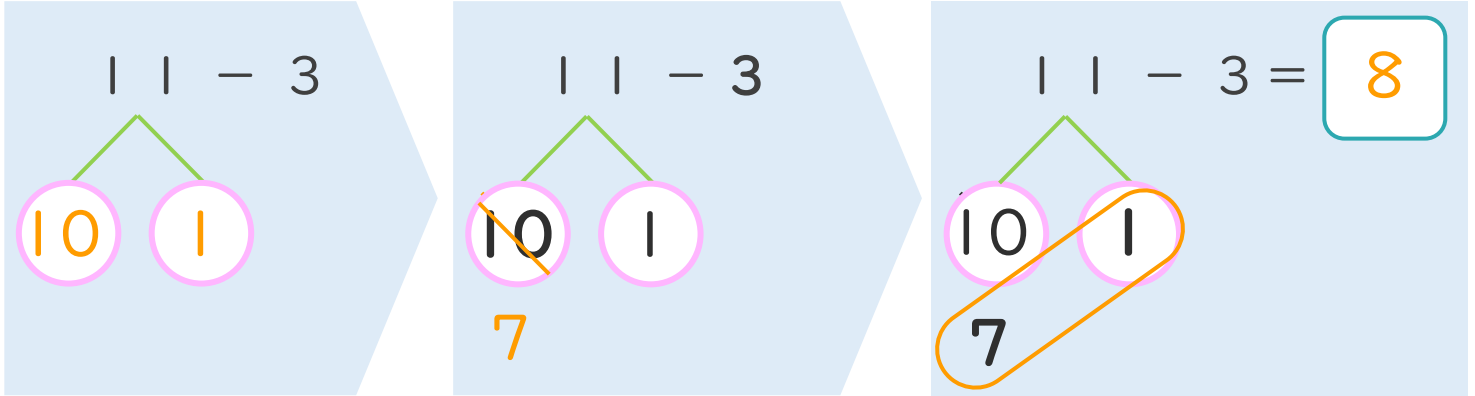
くりさがりのある
ひきざん 6
● くりさがりのけいさん
(4や3をひく)



日にち： 月 日

名まえ _____

< 11 - 3 の けいさんの しかた > (うすいじはなぞりましょう。)



- ① 11を
10と1に
わけます。
- ② 10から3を
ひいて7。
- ③ 7と1で8。

・ けいさんを しましょう。(うすいじはなぞりましょう。)

<p>① 11 - 3 = 8</p>	<p>③ 11 - 4 = 7</p>
<p>② 12 - 3 = 9</p>	<p>④ 13 - 4 = 9</p>