



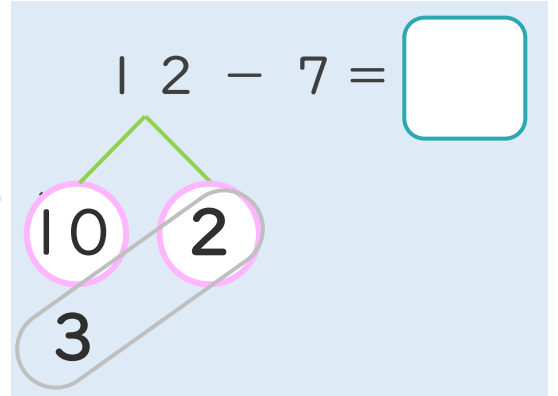
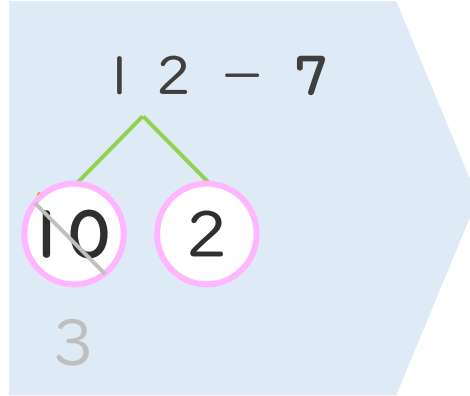
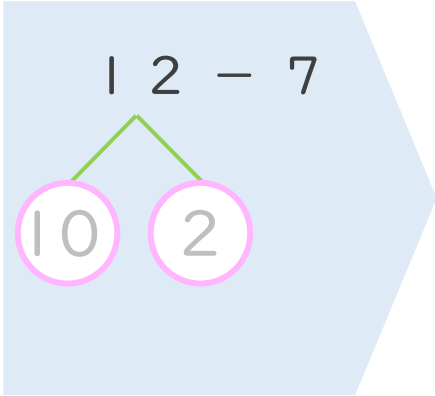
くりさがりのある
ひきざん 4
● くりさがりのけいさん
(7をひく)



日にち： 月 日

名まえ _____

< 12 - 7 のけいさんのしかた > (うすいじはなぞりましょう。)

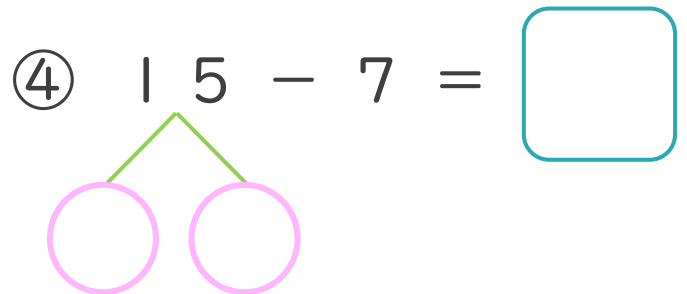
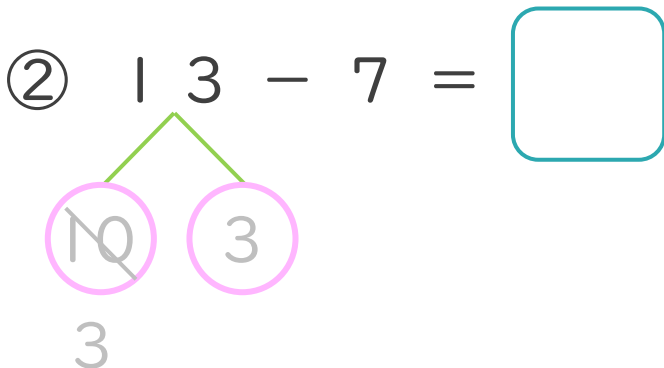
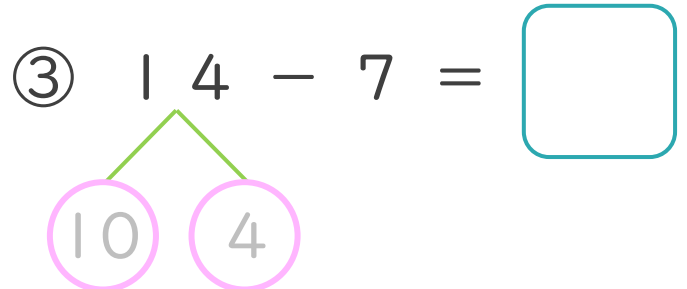
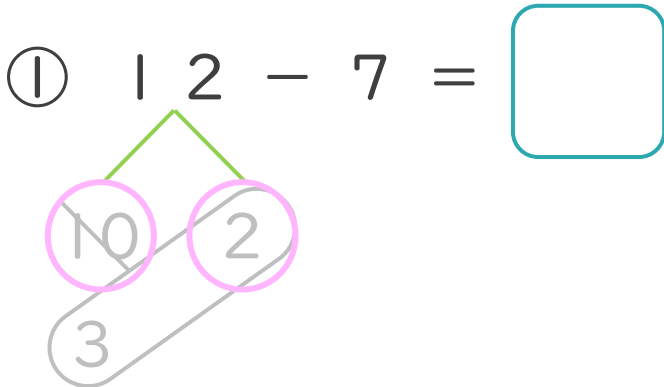


① 12を
10と2に
わけます。

② 10から7を
ひいて3。

③ 3と2で5。

・ けいさんをしましょう。(うすいじはなぞりましょう。)





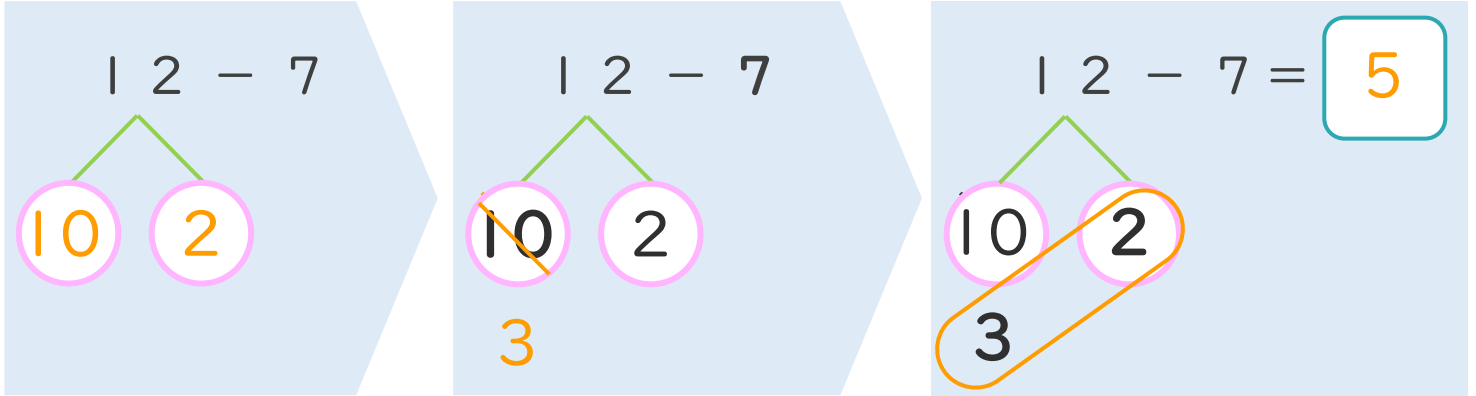
くりさがりのある
ひきざん 4
● くりさがりのけいさん
(7をひく)



日にち： 月 日

名まえ _____

< 12 - 7 の けいさんの しかた > (うすいじはなぞりましょう。)



- ① 12を
10と2に
わけます。
- ② 10から7を
ひいて3。
- ③ 3と2で5。

・ けいさんを しましょう。(うすいじはなぞりましょう。)

<p>① 1 2 - 7 = 5</p>	<p>③ 1 4 - 7 = 7</p>
<p>② 1 3 - 7 = 6</p>	<p>④ 1 5 - 7 = 8</p>

