



くりあがりのある
たしざん 10

● けいさんのしかたを
かんがえよう

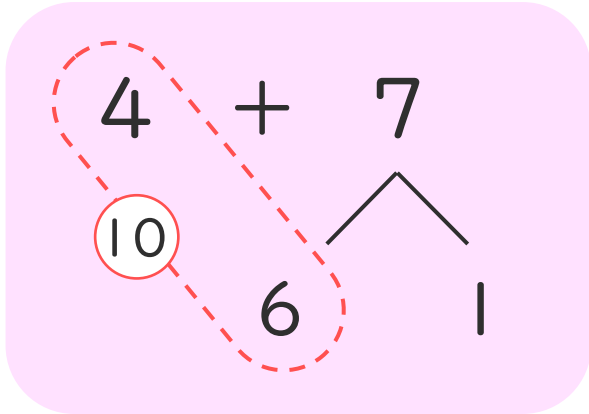


日にち： 月 日

名まえ _____

- ・ $4 + 7$ のけいさんのしかたをかんがえます。

にあうかずをかきましょう。(うすいじはなぞりましょう。)



① 4はあと で10。

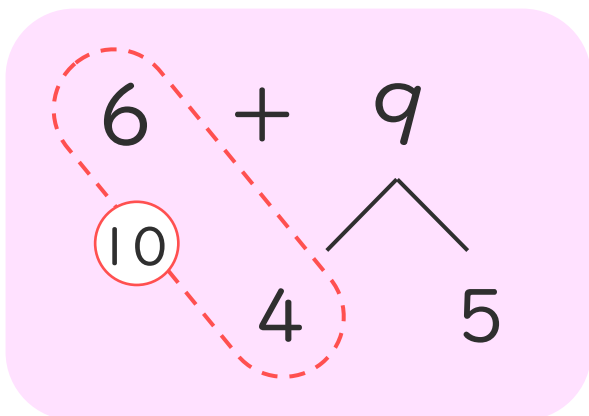
② 7を と1にわける。

③ 4に をたして10。

④ 10と で11。

- ・ $6 + 9$ のけいさんをします。

にあうかずをかきましょう。



① 6はあと で10。

② 9を と5にわける。

③ 6に をたして10。

④ 10と で15。





くりあがりのある
たしざん 10

● けいさんのしかたを
かんがえよう

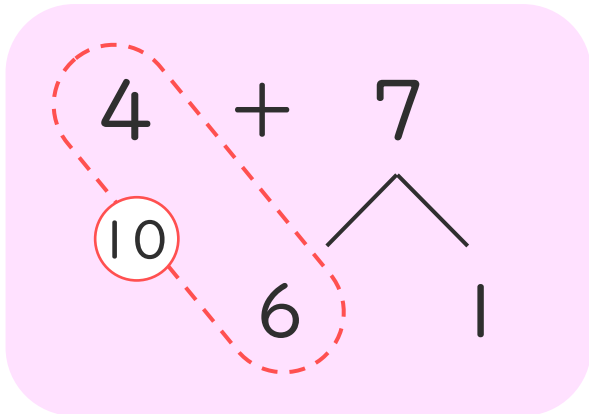


日にち： 月 日

名まえ _____

- ・ $4 + 7$ のけいさんのしかたをかんがえます。

にあうかずをかきましょう。(うすいじはなぞりましょう。)



① 4はあと で10。

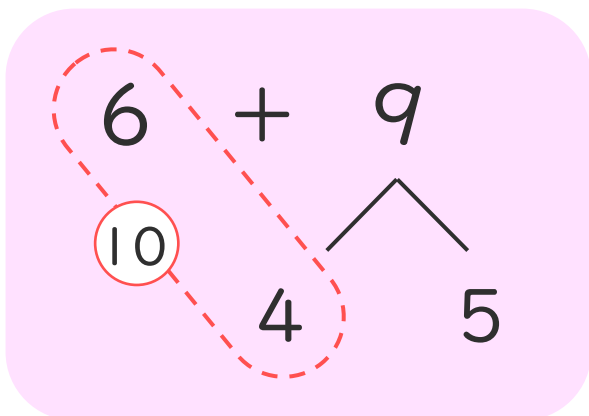
② 7を と1にわける。

③ 4に をたして10。

④ 10と で11。

- ・ $6 + 9$ のけいさんのしかたをかんがえます。

にあうかずをかきましょう。



① 6はあと で10。

② 9を と5にわける。

③ 6に をたして10。

④ 10と で15。

