



あわせていくつ3

◎ たしざんのしきをつくろう



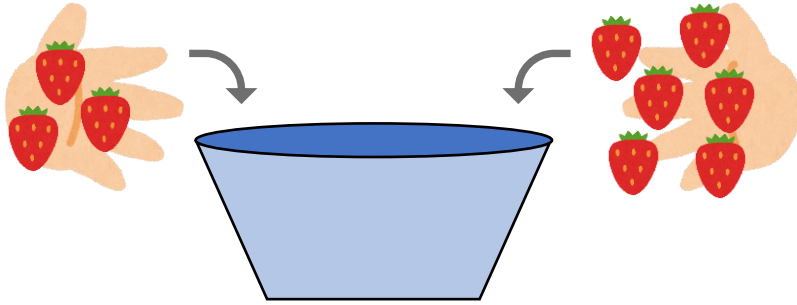
日にち： 月 日

名まえ _____

・ しきにかいて こたえましょう。(うすいじはなぞりましょう。)

① いちごを 3 こと 6 こ いれます。

あわせて なんこ になりますか。



しき


3	+		=	
---	---	--	---	--

こたえ

こ

② あめが 4 ほん と 2 ほん あります。

ぜんぶで なんほん ありますか。



しき

	+		=	
--	---	--	---	--

こたえ

ほん





あわせていくつ3

◎ たしざんのしきをつくろう



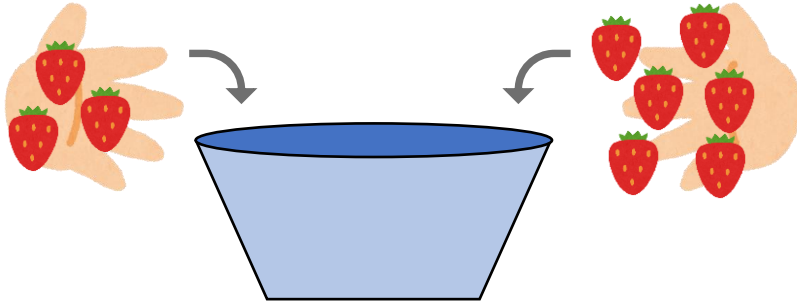
日にち： 月 日

名まえ _____

・ しきにかいて こたえましょう。(うすいじはなぞりましょう。)

① いちごを 3 こと 6 こ いれます。

あわせて なんこ になりますか。



しき

3	+	6	=	9
---	---	---	---	---


こたえ

9

 こ

② あめが 4 ほん と 2 ほん あります。

ぜんぶで なんほん ありますか。



しき

4	+	2	=	6
---	---	---	---	---

こたえ

6

 ぽん

