



あわせていくつ3

◎ たしざんのしきをつくらう



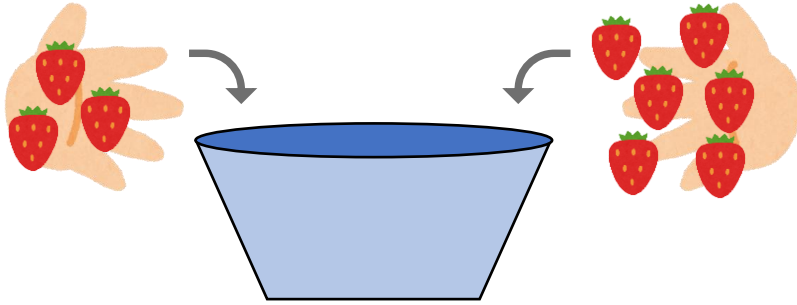
日にち： 月 日

名まえ _____

・ しきにかいて こたえましょう。(うすいじはなぞりましょう。)

① いちごを 3 こと 6 こ いれます。

あわせて なんこ になりますか。



しき


3	+			=		
---	---	--	--	---	--	--

こたえ

 こ

② あめが 4 ほん と 2 ほん あります。

ぜんぶで なんほん ありますか。



しき

		+			=		
--	--	---	--	--	---	--	--

こたえ

 ほん





あわせていくつ3

◎ たしざんのしきをつくろう



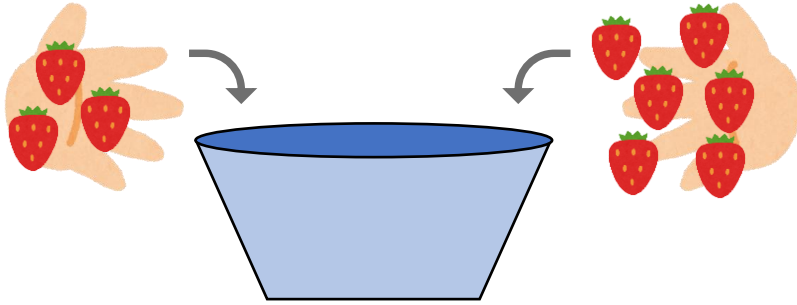
日にち： 月 日

名まえ _____

・ しきにかいて こたえましょう。(うすいじはなぞりましょう。)

① いちごを 3 こと 6 こ いれます。

あわせて なんこ になりますか。




しき $3 + 6 = 9$

こたえ 9 こ

② あめが 4 ほん と 2 ほん あります。

ぜんぶで なんほん ありますか。



しき $4 + 2 = 6$

こたえ 6 ほん

