



3つの
かずのけいさん 3

たしざんとひきざんの
まざったしき



日にち： 月 日

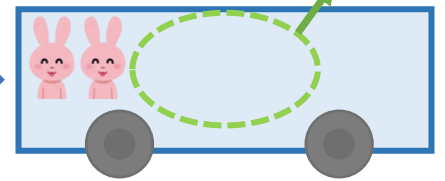
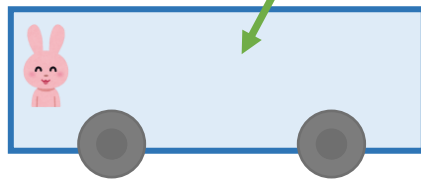
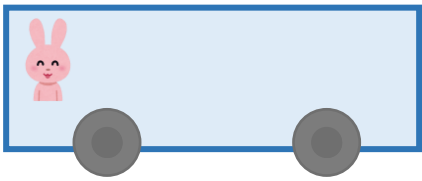
名まえ _____

うさぎは、なんびきになりましたか。(うすいじはなぞりましょう。)

1びきのっています。

4ひきのりました。

3びきおりました。



☆1つのしきにあらわしてみましよう。

しき： $1 + 4 - \square = \square$

5

こたえ： ひき



3つの
かずのけいさん 3

たしざんとひきざんの
まざったしき



日にち： 月 日

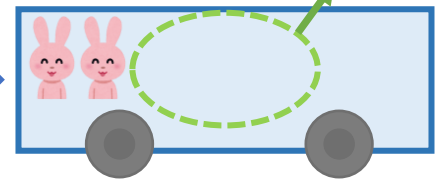
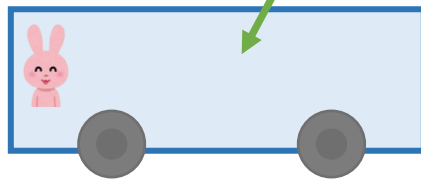
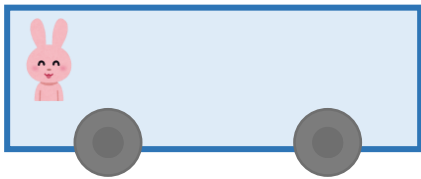
名まえ _____

うさぎは、なんびきになりましたか。(うすいじはなぞりましょう。)

1びきのっています。

4ひきのりました。

3びきおりました。



☆1つのしきにあらわしてみましよう。

しき： $1 + 4 - 3 = 2$

5

こたえ： 2 ひき

