



のこりはいくつ 6

◎ どちらがいくつ おおい?

2

日にち： 月 日

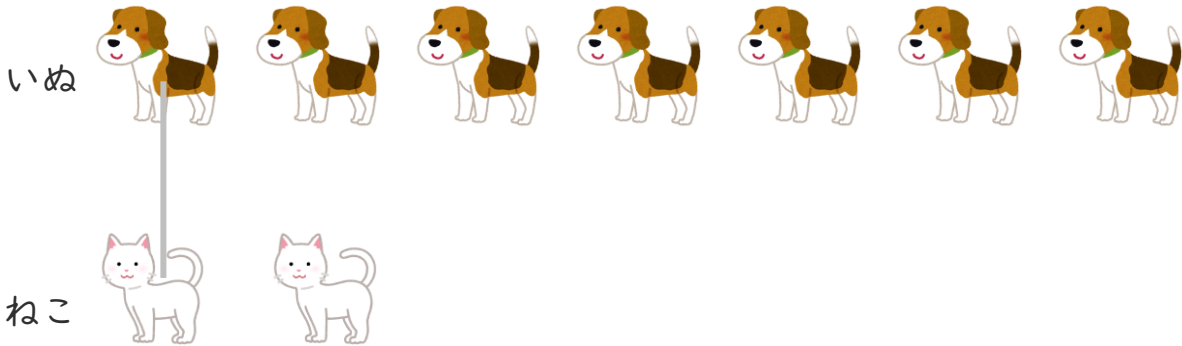
名まえ _____

・ いぬが 7 ひき います。

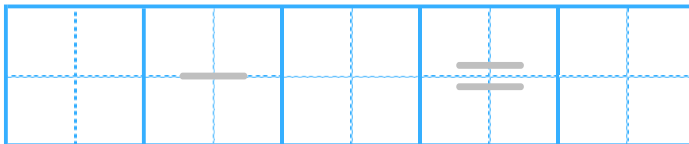
ねこが 2 ひき います。

どちらが なんびき おおい でしょうか。

(うすいじは なぞり ましょう。)



しき



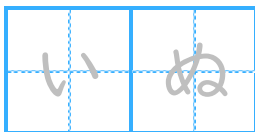
こたえかたに

ちゅうい しよう!

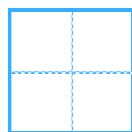


▼どちらが

こたえ



が



ひき おおい。





のこりはいくつ 6

2

● どちらがいくつ おおい?

日にち： 月 日

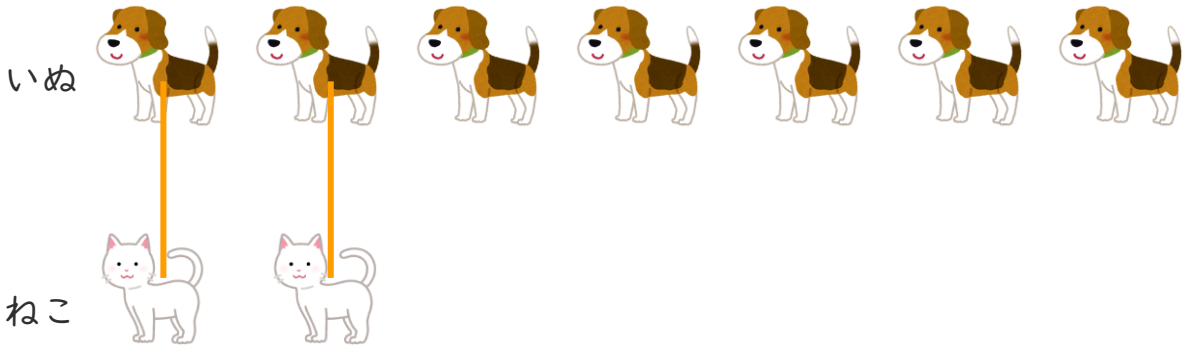
名まえ _____

・ いぬが 7 ひき います。

ねこが 2 ひき います。

どちらが なんびき おおい でしょうか。

(うすいじは なぞり ましょう。)



しき

7	-	2	=	5
---	---	---	---	---

こたえかたに

ちゅうい しよう!



▼どちらが

こたえ

い	ぬ
---	---

が

5

ひき おおい。

