



# のこりはいくつ 3

◎ のこりはいくつ?  
(きゅうざん)




日にち：            月            日

名まえ \_\_\_\_\_

・ しきにかいて こたえましょう。(うすいじはなぞりましょう。)

① いちごが 10こ あります。 5こ たべました。  
のこりは なんこ になりましたか。




しき 

1	0	-	5	=		
---	---	---	---	---	--	--

こたえ 


 こ

② とりかが 7わ とまっています。 4わ とんでいきました。  
のこりは なんわ になりましたか。



しき 

		-				=	

こたえ 


 わ





### のこりはいくつ 3

◎ のこりはいくつ?  
(きゅうざん)




日にち：            月            日

名まえ \_\_\_\_\_

・ しきにかいて こたえましょう。(うすいじはなぞりましょう。)

- ① いちごが 10こ あります。 5こ たべました。  
のこりは なんこ になりましたか。




しき 

1	0	-	5	=	5
---	---	---	---	---	---

こたえ 

5	こ
---	---

- ② とりかが 7わ とまっています。 4わ とんでいきました。  
のこりは なんわ になりましたか。



しき 

7	-	4	=	3
---	---	---	---	---

こたえ 

3	わ
---	---

