



### のこりはいくつ 3

◎ のこりはいくつ?  
(きゅうざん)




日にち：            月            日

名まえ \_\_\_\_\_

・ しきにかいて きたえましょう。(うすいじはなぞりましょう。)

① いちごが 10こ あります。 5こ たべました。

のこりは なんこ になりましたか。



しき 


1	0	-	5	=		
---	---	---	---	---	--	--

きたえ 


 こ

② とりかが 7わ とまっています。 4わ とんでいきました。

のこりは なんわ になりましたか。



しき 

		-			=	

きたえ 


 わ





のこりはいくつ 3

◎ のこりはいくつ?  
(きゅうざん)




日にち： 月 日

名まえ \_\_\_\_\_

・ しきにかいて こたえましょう。(うすいじはなぞりましょう。)

① いちごが 10こ あります。 5こ たべました。

のこりは なんこ になりましたか。




しき  $10 - 5 = 5$

こたえ  $5$  こ

② とりかが 7わ とまっています。 4わ とんでいきました。

のこりは なんわ になりましたか。



しき  $7 - 4 = 3$

こたえ  $3$  わ

